

# 일반사회

1차 시험	2 교시 (전공)	40문항 80점	시험 시간 120 분
-------	-----------	----------	-------------

- 문제지 전체 면수가 맞는지 확인하십시오.
- 문항의 배점이 1.5점과 2.5점인 문항에는 배점이 표시되어 있습니다. 나머지 문항은 2점입니다.
- 각 문항의 정답을 컴퓨터용 흑색 사인펜을 사용하여 답안지에 표시하십시오.

1. 다음은 교사가 수립한 수업 계획이다. 이 수업에 사용된 학습 모형의 일반적 특징에 대한 설명으로 옳은 것은?

학습 주제	빈곤 문제의 이해
소주제	(1) 빈곤 문제의 개념과 유형 (2) 빈곤 문제의 사례와 실태 (3) 빈곤 문제와 관련한 이론 (4) 빈곤 문제 해결을 위한 대책
<수업 단계>	
모집단 구성 (4인 1모둠)	
↓	
학습 주제 소개 및 읽기	
↓	
모집단 구성원에게 소주제 배분	
↓	
소주제를 가지고 각각 전문가 집단으로 이동하여 학습	
↓	
모집단으로 재이동하여 소주제 학습 내용 공유	
↓	
개인별 퀴즈 실시 및 점수 계산	
↓	
모둠별 보상 제공	

- ① 모집단은 성별, 성적, 가정 환경 등이 대체로 동질성을 갖도록 구성한다.
- ② 전문가 집단 학습을 통해 모둠 간에는 협동을, 모둠 내에서는 경쟁을 유도한다.
- ③ 개인별 퀴즈는 학습 주제 전체를 범위로 실시하고 그에 따라 향상 점수를 계산한다.
- ④ 전문가 집단에서 실시하는 소주제 학습은 사회 탐구와 가치 분석 기능 습득에 초점을 맞춘다.
- ⑤ 모집단 구성원은 성적이 높은 순으로 난이도 높은 소주제를 할당받아 전문가 집단으로 이동한다.

2. 다음은 논쟁 문제 수업 단계와 활동 사례를 제시한 것이다. 수업의 각 단계에 부합하도록 (가)~(바)의 위치를 바르게 바꾼 것은? [2.5점]

문제 제기	<학원 심야 교습 금지 정책: 유지냐, 중단이냐> 청소년의 건강 보호 및 사교육비 절감을 위해 학원 심야 교습을 계속 금지해야 한다는 주장과, 학습의 자율성 및 시장 경제 질서 유지를 위해 허용해야 한다는 주장이 대립하고 있다.		
↓			
가치 문제 확인	각 주장은 어떤 가치를 배경으로 하고 있는지 확인한다.		
↓			
분석	용어와 개념의 명확화	질문	(가) 청소년의 건강 보호와 학원의 영업 자유 중 어느 것이 더 본질적인가? (나) 학원 심야 교습 금지 정책으로 인해 사교육비는 얼마나 감소했는가?
	경험적 증거에 의한 사실 증명	질문	(다) 학원의 심야 교습 여부는 밤 몇 시를 기준으로 결정되는가? (라) 학원 심야 교습 금지는 학원 측에 어떤 경제적 손해를 주었는가?
	가치 갈등의 해결	질문	(마) 학원 심야 교습 금지는 헌법상 기본권을 침해하는가? (바) 학원 심야 교습 금지는 학기 중 평일에만 해당되는가, 휴일과 방학에도 해당되는가?
	대안 모색 및 결과 예측	각 주장에 따른 대안들을 모색하고 대안별로 결과를 예측한다.	
↓			
선택 및 결론	대안 중 하나를 선택하고 정당화한다.		

- ① (가) ⇔ (마), (나) ⇔ (라)
- ② (가) ⇔ (바), (나) ⇔ (다)
- ③ (가) ⇔ (바), (라) ⇔ (마)
- ④ (나) ⇔ (다), (라) ⇔ (마)
- ⑤ (나) ⇔ (마), (다) ⇔ (바)

3. 다음은 사회과교육의 발달 과정에서 나타난 경향이다. 이에 대한 설명으로 옳은 것만을 <보기>에서 있는 대로 고른 것은?

(가) 브루너(J. Bruner)는 『교육의 과정』에서 지식의 구조화를 주장하였다. 이러한 흐름이 사회과에서도 받아들여져 ‘지식의 구조’에 대한 이해와 적용이 사회과의 목표가 되어야 한다는 주장이 대두되었다.  
 (나) 벅크스(J. Banks)는 사회 탐구와 가치 탐구에 의해 합리적으로 의사 결정을 내리는 것을 강조하며 이러한 의사 결정 능력을 사회과의 목표로 삼아야 한다고 하였다.

—<보 기>—

ㄱ. (가)는 통합 중심의 교육과정 개혁으로 이어져 신사회과 운동을 야기하였다.  
 ㄴ. (가)는 자료의 분석을 통해 학생이 스스로 결론을 발견하는 발견 학습 원리로 연결되었다.  
 ㄷ. (나)의 의사 결정 능력은 이후 고차 사고력에 포함되었으며 이러한 고차 사고력의 함양이 사회과에서 강조되고 있다.  
 ㄹ. (가)의 구조화 학습의 논의는 (나)의 사회 탐구의 과정에 영향을 주었다.

- ① ㄱ, ㄴ                      ② ㄱ, ㄷ                      ③ ㄷ, ㄹ  
 ④ ㄱ, ㄴ, ㄹ                ⑤ ㄴ, ㄷ, ㄹ

4. 다음은 시기별 우리나라 사회과 교육과정의 특징을 나타낸 것이다. 이에 대한 설명으로 옳지 않은 것은? [2.5점]

(가) 공통 교육과정을 중학교 3학년까지 제시하였고 사회와 도덕을 하나의 교과군으로 제시하였다.  
 (나) 사회과교육 목표 설정에서 기존에 강조하던 국민의 자질을 시민의 자질로 수정하였다.  
 (다) 사회과에 흥미와 능력의 차이를 고려한 수준별 교육과정인 초·중·고 단계로 적용되어 보충 과정, 기본 과정, 심화 과정의 용어가 사용되었다.  
 (라) 7~10학년 ‘사회’에서 역사 과목이 독립하여 지리와 일반사회 영역만으로 구성되었으며, 선택 과목에서도 ‘동아시아사’가 신설되는 등 역사 교육이 강화되었다.

- ① (가) 시기에는 일반사회 영역의 선택 과목으로 ‘법과 정치’, ‘경제’, ‘사회·문화’가 개설되었다.  
 ② (나) 시기에는 10학년에서 ‘공통사회’라는 과목을 개설하여 통합적 접근을 시도하였다.  
 ③ (다) 시기에는 사회과 일반 선택 과목으로 ‘인간사회와 환경’이 도입되고, 일반사회 심화 선택 과목으로 ‘법과사회’, ‘정치’, ‘경제’, ‘사회·문화’가 개설되었다.  
 ④ (라) 시기에는 일반사회 선택 과목인 ‘정치·경제’ 과목이 ‘정치’와 ‘경제’로 분리되고 ‘정치’ 과목 안에 법 내용이 함께 제시되었으며, ‘사회·문화’ 과목이 개설되었다.  
 ⑤ (가)~(라)를 시대순으로 배열할 경우 (다) 시기는 두 번째에 해당한다.

5. (가)~(다)는 사회과 교육과정의 구성 원리이다. 이에 대한 설명으로 옳지 않은 것은? [1.5점]

(가) 학년이 높아짐에 따라, 자기 자신을 중심으로 가까운 곳, 손쉽게 경험할 수 있는 곳에서부터 시작하여 점차 먼 곳으로 확장되어 나아가도록 내용을 배열하는 원리  
 (나) 사회과의 다양한 교과 내용을 학문 영역 간의 관계와 교육적 고려 등을 기준으로 재조직하여 구성하는 원리  
 (다) 몇 개의 학문 영역에서 관련되는 핵심 원리 및 개념을 선택하여 저학년에서 고학년으로 그 내용과 수준을 심화·확대하여 지속적, 반복적으로 학습하도록 구성하는 원리

- ① 세계화, 교통 통신의 발달로 인해 최근 사회과 교육과정을 구성하는 데 있어서 (가)를 보다 탄력적으로 적용하고 있다.  
 ② (가)에 의해 정치 내용을 구성한다면, 교실·학교에서의 정치 과정을 통한 의사 결정, 고장·지역 사회의 정치 상황 등을 거쳐 국내 정치, 국제 정치 순으로 다룬다.  
 ③ (나)에 의해 본래의 학문 영역이 가지고 있는 정체성과 체계가 불분명해진다는 점에서 초등학교 단계에서는 (나)의 성격이 약하게 나타나고 학교 급이 올라갈수록 점차 강화되고 있다.  
 ④ (다)에 의해 사회과 교육과정을 구성할 경우, 학년에 따라 내용 수준을 달리하여 가르치게 되므로 개념에 대한 심층적인 이해와 추상적인 사고 발달에 도움이 된다.  
 ⑤ (나)는 사회 현상을 종합적으로 이해하는 데 도움이 된다는 장점이 있으며, (다)는 학문의 구조와 방법을 이해하는 데 도움이 된다는 장점이 있다.

6. 표는 바, 바스와 서미스(Barr, Barth & Shermis)가 구분한 사회과 교육 전통의 일반적 특징을 단순화하여 비교한 것이다. ‘투표와 민주주의’를 주제로 수업을 할 때, (가)~(다) 전통에 부합하는 수업 사례로 가장 적절한 것을 <보기>에서 찾아 바르게 연결한 것은?

항목 \ 전통	(가)	(나)	(다)
기본 가치 전수 정도	약함	강함	약함
가치 분석 정도	약함	약함	강함
학습에서의 탐구 비중	높음	낮음	높음

—<보 기>—

ㄱ. 민주주의 발전을 위한 투표의 중요성을 강조하고 참여를 독려한다.  
 ㄴ. 투표율 제고를 위한 ‘의무 투표제’ 도입에 대해 찬반 토론을 실시한다.  
 ㄷ. 실증적 연구 방법에 따라 유권자 연령대와 투표율의 관계를 조사한다.  
 ㄹ. 투표권이 없어 차별 받는 소수자 사례를 제시하고 그 문제점과 해결책을 탐색한다.

- (가) (나) (다)                      (가) (나) (다)  
 ① ㄱ    ㄴ    ㄹ                              ② ㄴ    ㄱ    ㄷ  
 ③ ㄷ    ㄱ    ㄴ                              ④ ㄷ    ㄹ    ㄱ  
 ⑤ ㄹ    ㄴ    ㄷ

7. 다음은 가치 교육을 위한 한 모형의 사례다. 이 모형에 대한 설명으로 옳은 것을 <보기>에서 고른 것은?

<상황 제기> 여름 방학을 맞아 사범대 학생인 갑은 임용 시험을 준비하기 위해 학습 계획을 세웠는데, 음식점을 운영하는 부모님께서 몸이 편찮으시니 도와달라고 하신다.  
 1단계: 학생 스스로 어느 것을 선택할 것인가를 자유롭게 생각한다.  
 2단계: 이러한 선택 상황에서 다양한 대안을 마련한다.  
 3단계: 각 대안들의 결과에 대해 심사숙고한 후에 선택한다. 즉, 도와드리지 않고 임용 준비만 할 경우 또는 임용 준비를 포기하고 부모님의 음식점 운영을 도울 경우 등이 각각 어떤 결과를 초래할지 충분히 검토한 후에 선택을 한다.  
 4단계: 부모님의 음식점 운영을 돕기로 했다면, 그 선택을 소중하게 여기고 기쁘게 생각한다.  
 5단계: 부모님의 음식점 운영을 돕기로 한 것을 학과 친구들에게 공개적으로 발표한다.  
 6단계: 선택에 따라 부모님의 음식점 운영을 도와드린다.  
 7단계: 부모님 돕기를 반복적, 지속적으로 실천한다.

<보 기>

- ㄱ. 학생들이 그 가치를 선택한 논리와 이유를 명백히 밝히는 데 주안점을 두도록 한다.
- ㄴ. 학생들이 선택한 가치의 원천을 조사하여, 가치의 원천에 대해 세운 가설을 증명할 수 있는 자료를 제시하도록 한다.
- ㄷ. 학생들이 선택한 가치에 따라 일관성을 가지고 행동함으로써 자신의 선택과 행동이 삶의 한 유형이 되도록 한다.
- ㄹ. 학생들의 가치 선택이 정당한지를 판단할 수 있는 기본적인 가치 또는 보편적 원칙을 제시하지 못한다는 한계를 지닌다.
- ㅁ. 학생들이 자신이 가지고 있는 가치가 무엇인지를 명백히 하고, 그것에 대해 긍지를 가짐으로써 효과적으로 가치관을 확립할 수 있다.

- ① ㄱ, ㄴ, ㄷ                      ② ㄱ, ㄴ, ㅁ                      ③ ㄱ, ㄷ, ㄹ
- ④ ㄴ, ㄹ, ㅁ                      ⑤ ㄷ, ㄹ, ㅁ

8. <A>의 ㉠~㉣ 중에서 <B>의 (가), (나)에 해당하는 것을 찾아 바르게 연결한 것은?

<A> 다문화 수업을 진행하는 교사의 유형

팡(V. Pang)은 다문화 수업을 진행하는 교사의 유형을 네 가지로 분류하였다.  
 ㉠ 동화를 강조하는 교사는 지시적 성향을 보이며 교사 중심적 행동을 나타낸다. 이러한 교사는 사회적 순응의 가치를 강조하며 그 사회의 주류 문화를 중시한다.  
 ㉡ 인간 관계를 강조하는 교사는 모든 학생들이 상호 간에 서로 존중하도록 가르친다. 여러 문화적 배경을 가진 학생들이 서로 교류하면서 편견을 극복하도록 노력한다.  
 ㉢ 사회적 행동을 강조하는 교사는 학교에서의 교육적 평등을 중요하게 여기며 불공정한 교육 제도가 학생의 성공에 장애가 되는 요소라고 여긴다.  
 ㉣ 배려 중심의 다문화 교사는 교육과정과 가르침은 보살핌의 태도로부터 비롯된다고 본다. 이러한 태도를 통해 학생들이 자신과 자신의 공동체에 관심을 갖고 사회 변화를 추구하고, 참여적이고 협동적이며 반성적으로 바뀔 수 있다고 본다.

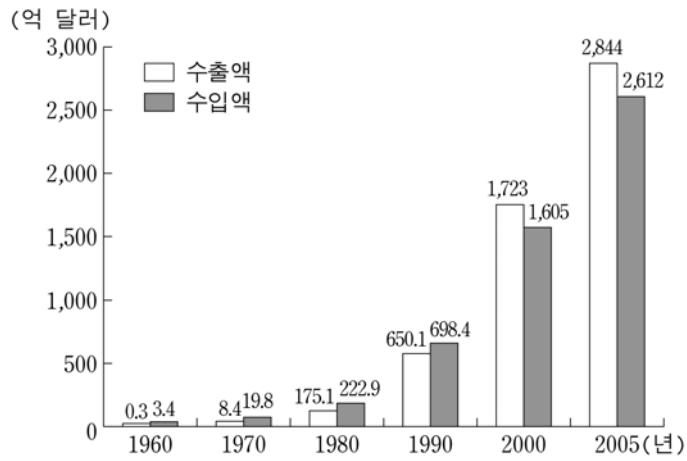
<B> 수업 사례

다문화 수업의 모습은 교사 유형에 따라 차이가 있다. 예를 들어, (가) 유형은 수업에서 서로 다른 인종이나 민족 간에 문화를 이해할 수 있도록 여러 가지 문화 체험 프로그램을 진행하여 학생들이 문화의 다양성을 인식하도록 한다. 이러한 수업에서는 다양한 문화가 소개되지만 현상을 유지하는 차원에 머무른다.  
 이에 비해 (나) 유형은 수업에서 비판적으로 사고하는 법을 가르쳐 학생들이 사회 정의에 관심을 갖고 불평등에 도전하게 한다. 이를 위해 시민의 권리 획득에 관한 역사, 논쟁적인 이슈나 역사적인 불평등 사례들을 선택하여 다문화적 인식을 높이려는 수업을 진행한다.

- |   |     |     |   |     |     |
|---|-----|-----|---|-----|-----|
|   | (가) | (나) |   | (가) | (나) |
| ① | ㉠   | ㉡   | ② | ㉢   | ㉣   |
| ③ | ㉢   | ㉣   | ④ | ㉣   | ㉠   |
| ⑤ | ㉣   | ㉢   |   |     |     |

9. 다음은 교사가 작성한 시험 문항 초안이다. 이 문항의 완성도를 높이기 위해 제시할 수 있는 검토 의견으로 적절한 것만을 <보기>에서 있는 대로 고른 것은?

1. 그래프는 우리나라의 수출액과 수입액의 변화를 보여주는 것이다. 이에 대한 해석으로 옳은 것은?



(한국 무역 협회, 2006)

- ① 2000년에 처음으로 수출업체들이 순이익을 남겼다.
- ② 2005년 수출액은 2000년보다 2배 넘게 증가하였다.
- ③ 2005년 수입액은 2000년보다 약 500억 달러 증가하였다.
- ④ 2000년 수출액과 수입액의 차이는 2005년 수출액과 수입액의 차이보다 크다.
- ⑤ 위 그래프는 수출액과 수입액이 서서히 증가했음을 보여준다.

<보기>

ㄱ. 그래프 해석에 필요한 범례가 제시되어 있지 않다.  
 ㄴ. 답지의 내용이 아니라 길이로 인해 정답이 암시되고 있다.  
 ㄷ. 답지 내용에 주관적 판단이 포함되어 있어 정답 시비가 예상된다.  
 ㄹ. 그래프상의 정보만으로는 진위를 판단할 수 없는 답지가 포함되어 있다.

- ① ㄱ, ㄴ                      ② ㄱ, ㄷ                      ③ ㄷ, ㄹ
- ④ ㄱ, ㄴ, ㄹ                ⑤ ㄴ, ㄷ, ㄹ

10. 다음은 교사가 제시한 수업의 설계이다. 이 수업에서 진행될 학생의 활동으로 적절하지 않은 것은? [1.5점]

- (1) 한국 사회의 고령화 추세에 관한 흥미를 유발시키며 세계적 안목에서 이 현상을 파악하도록 한다.
- (2) '국가의 경제 발전 정도와 고령화 정도'라는 주제를 주어 가설을 설정하게 한다.
- (3) 총부양비, 유소년, 노년 및 노령화 지수 등의 개념을 탐색하는 과정을 갖게 한다.
- (4) 각 국의 인구 분포 및 연령 집단별 분포, GDP, 1인당 GDP, 노령화 지수 등과 관련된 자료와 정보를 수집하게 한다.
- (5) 국가별 경제 규모와 고령화 정도를 나타낸 자료를 비교하고 분석하여 가설을 검증하고 결론을 도출하게 한다.

- ① 자료 수집을 위해서는 통계적 자료를 수집한다.
- ② 탐구 절차를 통해 과학적이고 체계적인 사고 과정을 학습한다.
- ③ 개념을 탐색하는 과정에서 개념의 속성보다 상황을 중시한다.
- ④ 탐구를 수행하면서 분류하기, 추론하기, 자료 해석하기 등의 기능을 사용한다.
- ⑤ "국가의 경제 발전 수준이 높을수록 고령화 수준이 높을 것이다."와 같은 가설을 설정한다.

11. 다음은 교사의 교수·학습 과정을 나타낸 것이다. 교사가 패널의 수행 정도를 평가하고자 할 때, 각 단계의 특성을 고려한 평가 방법으로 적절한 것만을 <보기>에서 있는 대로 고른 것은?

단계	교수·학습 과정
도입	○ 고교 평준화 정책에 관하여 문제를 제기하며 간단한 토론을 통해 패널을 선발한다.
(가)	○ 선발된 패널은 고교 평준화 정책에 관한 자료를 조사한다.
(나)	○ 고교 평준화 정책의 찬성 측 패널과 반대 측 패널은 각각 1분씩 의견을 발표한다. ○ 청중은 고교 평준화 정책과 관련된 읽기 자료를 참고하며 토론을 지켜본다.
(다)	○ 찬반의 각 입장에서 고교 평준화 정책의 효용성이나 문제점에 대해 본격적인 토론을 진행한다.
(라)	○ 청중이 패널에게 질문하고 패널은 답변한다.
(마)	○ 교사는 토론 수업의 전체 흐름을 정리하고 평가한다. ○ 교사는 청중에게 패널에 대한 동료 평가를 실시하게 한다.

<보기>

ㄱ. (가)에서 고교 평준화 정책에 관한 통계 자료, 반대 측에 대응할 자료 등을 준비한 정도를 고려하여 평가한다.  
 ㄴ. (나)에서 각 패널이 자신의 입장과 반대 측의 입장을 모두 균형 있게 소개하는 정도를 고려하여 평가한다.  
 ㄷ. (다)에서 자신의 입장을 지지하는 경험적, 논리적 근거를 제시하는 정도를 고려하여 평가한다.  
 ㄹ. (라)에서 패널이 청중으로부터 받는 질문의 횟수에 따라 신뢰도를 평가한다.  
 ㅁ. (마)에서 교사는 청중에게 의견 발표 수준, 자료 준비 정도, 패널 간의 협동 등의 항목을 담은 체크리스트를 이용하여 패널을 평가하게 한다.

- ① ㄱ, ㄷ                      ② ㄱ, ㄹ                      ③ ㄴ, ㅁ
- ④ ㄱ, ㄷ, ㅁ                ⑤ ㄴ, ㄹ, ㅁ

12. 밑줄 친 ‘이 정치 이데올로기’에 대한 설명으로 옳은 것을 <보기>에서 고른 것은?

이 정치 이데올로기는 집단에 의한 통제보다는 개인의 자발성을 우선시하고 개인의 자유를 보편적 가치로 인식하며, 그것에 기초하여 사회 제도를 구현하고자 한다. 이는 인간 개개인은 각자 자기완성 능력을 갖추고 있다는 인간관, 원리적으로 개인의 자유와 모순되지 않는 정치 제도가 존재할 수 있다는 정치관, 개인의 자발성 보장이야말로 사회 발전의 조건이라는 사회관 등을 전제하고 있다.

—<보 기>—

- ㄱ. 개인의 권리보다는 사회의 발전을 궁극적 기준으로 보는 규범적 입장을 가진다.
- ㄴ. 자율성을 위해 민주주의가 존재하는 것이 아니라 민주주의를 위해 자율성이 존재한다는 관점을 가지고 있다.
- ㄷ. 사회적 일체감의 관점에서 자아의 본질을 정의한다기보다 합리적 선택의 관점에서 자아의 본질을 정의한다.
- ㄹ. 특정 사회의 공유 가치 기준에 기초하여 가치를 정당화한다기보다 모든 사회에 보편적 가치 기준이 존재한다는 믿음을 가지고 있다.

- ① ㄱ, ㄴ    ② ㄱ, ㄹ    ③ ㄴ, ㄷ    ④ ㄴ, ㄹ    ⑤ ㄷ, ㄹ

13. 다음 글에 나타난 A당의 후보 결정 방식에 대하여 옳게 설명한 것만을 <보기>에서 있는 대로 고른 것은?

A당은 제20대 국회의원 선거에서 공천 심사 위원회를 구성해 후보자의 도덕성, 당 기여도, 당선 가능성, 정책 수립 능력과 추진 능력을 기준으로 후보를 공천하였으나, 당 내외에서 이 공천 방식에 관해 많은 문제점을 제기하였다. 따라서 제21대 국회의원 선거에서는 무작위로 선정한 일반 유권자 10,000명이 각 공천 신청자에게 투표한 결과와 일반 여론조사 결과를 합산하여 후보를 결정하였다.

—<보 기>—

- ㄱ. 제20대 총선 공천 방식은 제21대 총선 공천 방식에 비해 비용이 적게 소요된다.
- ㄴ. 제20대 총선은 제21대 총선에 비해 후보 공천에서 당 지도부의 영향력이 강하게 작용한다.
- ㄷ. 제20대 총선은 상향식 공천 방식을 사용했고, 제21대 총선은 혼합식 공천 방식을 채택했다.
- ㄹ. 제21대 총선 공천 방식은 제20대 총선 공천 방식에 비해 더 민주적이며, 당의 정체성에 더 부합하는 후보를 공천할 수 있다.

- ① ㄱ, ㄴ    ② ㄱ, ㄷ    ③ ㄴ, ㄹ  
④ ㄱ, ㄷ, ㄹ    ⑤ ㄴ, ㄷ, ㄹ

14. (가)~(다)의 민주주의 유형에 가장 적합한 사례를 <보기>에서 찾아 바르게 연결한 것은?

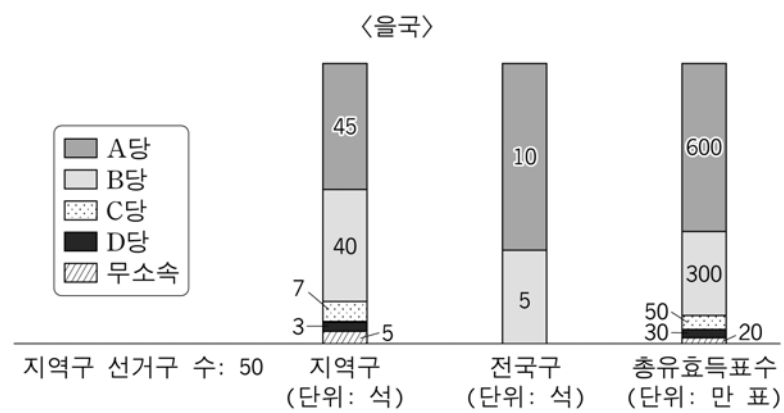
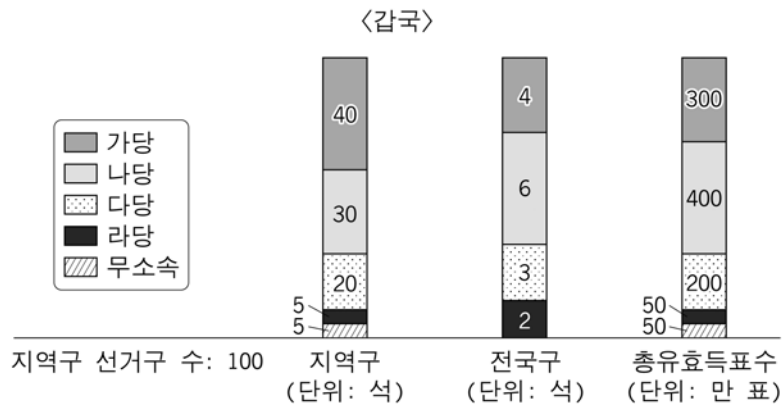
- (가) 자유와 자기 계발에 대한 평등한 권리는 시민들이 자신들의 정치적 효능감을 제고하며 집단적 문제와 통치 과정에 지속적 관심을 가지고 정치적 의사 결정에 직접 참여하는 사회에서만 보장될 수 있다.
- (나) 다수결 원리는 자의적 정부로부터 개인을 보호하고 자유를 유지하는 효과적이고 바람직한 방법이지만, 개인의 자유와 권리를 보장하기 위해서는 다수의 지배가 공적 규정에 의해 제한되어야 한다.
- (다) 정치적 결사의 조건은 시민들의 자유롭고 합리적인 합의에서 유래하며, 정치적 결정에 대해 ‘서로 정당하다고 인정할 수 있는 가능성’이 집단적 문제의 해결책을 모색하는 정당한 기반이 된다.

—<보 기>—

- ㄱ. 자신의 농지가 그린벨트에 포함된 농민이 1인 시위를 통해 그린벨트 재조정을 이끌어 냈다.
- ㄴ. 권력 구조 개편을 골자로 한 헌법 개정안이 국회 본회의에서 정족수 미달로 부결되었다.
- ㄷ. 방폐장 선정을 위해 개설된 온라인 토론장에서 해당 지역 주민들 간에 치열한 논쟁이 전개되었다.

- |   | (가) | (나) | (다) |   | (가) | (나) | (다) |
|---|-----|-----|-----|---|-----|-----|-----|
| ① | ㄱ   | ㄴ   | ㄷ   | ② | ㄱ   | ㄷ   | ㄴ   |
| ③ | ㄴ   | ㄱ   | ㄷ   | ④ | ㄴ   | ㄷ   | ㄱ   |
| ⑤ | ㄷ   | ㄱ   | ㄴ   |   |     |     |     |

15. 그래프는 갑국과 을국에서 실시된 의회 선거 결과이다. 이에 대한 분석으로 옳은 것만을 <보기>에서 있는 대로 고른 것은? [2.5점]



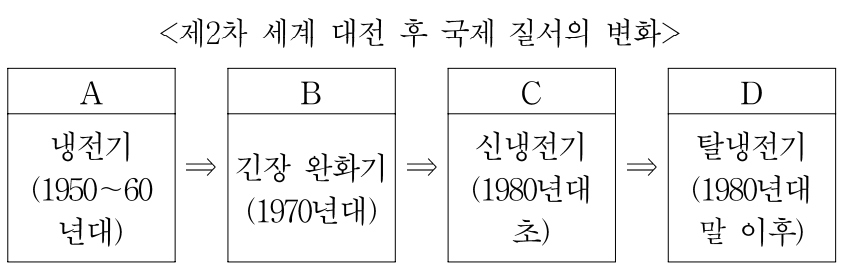
\* 양국 모두 1인 1표제를 시행함.  
\*\* 전국구 의석은 총유효득표율에 따라 배분됨.

〈보 기〉

ㄱ. 갑국과 을국의 지역구 선거구제와 총선거구 수는 상이하다.  
 ㄴ. 갑국의 가당이 을국의 A당에 비해 의회에서 과소대표되어 있다.  
 ㄷ. 정당별 총유효득표 순위 대비 정당별 지역구 총의석 순위는 갑국이 을국에 비해 왜곡되어 있다.  
 ㄹ. 의석 점유율에 의하면 갑국보다 을국이 양당제에 가까우며, 양국의 총유효득표율에 따른 전국구 의석 최소 배분 조건은 상이하다.

- ① ㄱ, ㄴ                    ② ㄱ, ㄷ                    ③ ㄴ, ㄹ  
 ④ ㄱ, ㄷ, ㄹ                ⑤ ㄴ, ㄷ, ㄹ

16. 다음 A~D 시기의 세계 대전의 부재 현상과 (가)~(마)의 국제 정치 시각을 연관시킨 내용으로 가장 적절한 것은? [2.5점]



- (가) 국제 사회에서 국제 제도의 역할이 중요하며 국제 제도가 국제 협력의 어려움을 상당 부분 해결해 줄 수 있다. 사찰·검증·군축 레짐 등 안보 레짐을 통해 평화는 관리·유지될 수 있다.  
 (나) 각국은 그 자신의 국력을 극대화시키고 상대국을 견제함으로써 힘의 균형을 이루고자 하며, 어느 국가의 패권적 지위도 허용하지 않으려 한다. 이러한 균형 상태가 평화를 가져온다.  
 (다) 패권국이 그 체제의 규범을 설정하고 관리하기 때문에 국제 질서의 안정은 그 질서를 보존할 능력과 의사를 가진 패권국에 의해서 성취·유지될 수 있다.  
 (라) 주목해야 할 행위자의 수를 증가시킴으로써 다극 체제가 양극 체제보다 개별 행위자의 선부른 판단을 방지하여 강대국 간 전쟁 발발 가능성을 줄인다.  
 (마) 양극 체제가 다극 체제보다 적국의 의도와 행위에 대한 오판을 감소시킴으로써 불확실성을 축소하여 초강대국 간 전쟁 발발 가능성을 줄인다.

- ① (가)는 D보다 A를 잘 설명할 수 있다.  
 ② (나)는 A와 C에 비해 B와 D를 잘 설명할 수 있다.  
 ③ (다)는 A에서 D로 갈수록 그 설명력이 증가한다.  
 ④ (라)는 B보다 D를 잘 설명할 수 있다.  
 ⑤ (마)는 A보다 B와 C를 잘 설명할 수 있다.

17. 다음 글에 대해 옳게 설명한 것만을 <보기>에서 있는 대로 고른 것은? [1.5점]

인권 또는 인간의 권리는 인간이 인간으로서 당연히 누리는 권리를 말한다. 우리는 인권을 기본적 인권 혹은 기본권이라고도 한다. 하지만 엄밀한 의미에서 인권과 기본권은 동일한 개념이 아니다. 인권은 인권 사상을 바탕으로 하여 인간이 인간이기 때문에 당연히 누리는 인간의 생래적·천부적 권리를 의미하지만, 기본권은 헌법이 보장하는 국민의 기본적 권리를 의미하기 때문이다.

<보 기>

- ㄱ. 기본권은 인간의 기본적 권리로서 국가의 존립 근거이므로 초국가적 권리이다.
- ㄴ. 기본권은 국가를 전제로 하는 권리이므로 원칙적으로 헌법이 인정하는 국민의 권리이다.
- ㄷ. 인권은 가치 또는 이익의 객관적인 보장 형태인 법을 통해 구현되며, 헌법에 명시되어야만 효력을 가진다.
- ㄹ. 인권은 특정의 약속이나 계약 또는 특정한 사회적 지위 등과 같은 특정 관계나 거래에 의해 주어지는 것이 아니다.

- ① ㄱ, ㄴ                      ② ㄱ, ㄷ                      ③ ㄴ, ㄹ
- ④ ㄱ, ㄷ, ㄹ                ⑤ ㄴ, ㄷ, ㄹ

18. 우리나라 지방 선거에 도입된 다음 제도에 대한 반대 근거로 타당한 것을 <보기>에서 고른 것은?

모든 지방 선거에서 정당은 후보를 추천할 수 있으며, 후보는 정당의 추천을 받고 이를 공표할 수 있게 되었다. 따라서 기초 의원 후보들도 소속 당의 정책을 홍보할 수 있고, 기초 의원들은 기초 의회에서 공개적으로 정당 소속에 따라 의사 결정을 할 수 있다. 지방 선거에서 공직 후보 추천은 대개 광역시·도당 차원에서 이루어지지만 정당마다 그 구체적 방식은 다르다.

<보 기>

- ㄱ. 지방 정부의 정책 집행에 대한 정치적 책임 소재가 불분명해진다.
- ㄴ. 지방 의원에 대한 소속 정당 지역구 국회의원의 영향력이 지나치게 크게 작용한다.
- ㄷ. 지방 자치 단체장 후보가 난립해 지방 자치 단체장이 소수 대표가 될 가능성이 커진다.
- ㄹ. 지방 자치 단체장 소속 정당과 지방 의회 다수당이 다를 때 자치 단체 운영이 경색될 수 있다.

- ① ㄱ, ㄴ                      ② ㄱ, ㄷ                      ③ ㄴ, ㄷ                      ④ ㄴ, ㄹ                      ⑤ ㄷ, ㄹ

19. (가)~(다) 시장에 대한 옳은 추론을 <보기>에서 고른 것은? [1.5점]

- (가) 쌀을 재배할 수 있는 면적은 한정되어 있고, 쌀을 생산하는데는 오랜 시간이 걸린다. 그리고 쌀밥은 소비자들의 주식으로 가격의 변화에 대한 수요량 변화가 매우 적다.
- (나) 해외 관광 여행은 국내 여행에 비해 가격 부담이 크다. 그래서 해외 관광 여행 비용이 조금이라도 상승하면 해외 관광 여행을 포기하는 경우가 많아 환율 변동이 서비스 수지의 개선 요인이 되기도 한다.
- (다) 담배는 중독성이 있어서 쉽게 끊기 어렵다. 그런데 최근 시장 개방이 확대되면서 각국의 다양한 담배가 시장에서 판매되고 있어 애연가들은 자신이 좋아하는 담배를 어디서나 쉽게 살 수 있게 되었다.

<보 기>

- ㄱ. (가) 시장에서 기술 진보로 쌀의 공급이 증가할 경우 쌀 농가의 판매 수입은 감소할 것이다.
- ㄴ. (나) 시장에서 여행자들이 해외 관광 여행 공급을 줄인다면 판매 수입은 증가할 것이다.
- ㄷ. (다) 시장에 정부가 물품세를 부과하면 판매자보다 소비자의 세금 부담 비중이 높아질 것이다.
- ㄹ. (나) 시장에 비해 (다) 시장이 불황에 의해 영향을 받기 쉽다.

- ① ㄱ, ㄴ                      ② ㄱ, ㄷ                      ③ ㄴ, ㄷ                      ④ ㄴ, ㄹ                      ⑤ ㄷ, ㄹ

20. 표는 상품 '가'와 '나'에 대한 갑의 한 무차별 곡선과 상품 '다'와 '라'에 대한 을의 한 무차별 곡선 위에 있는 일부 상품 묶음을 나타낸 것이다. 이에 대한 분석으로 옳지 않은 것은?

상품 묶음	<갑>		<을>		
	상품 '가'	상품 '나'	상품 묶음	상품 '다'	상품 '라'
A	2	14	a	3	0
B	3	8	b	2	1
C	6	4	c	1	2
D	7	3	d	0	3

- ① 갑이 상품 '가'와 '나'를 각각 3개, 9개 소비한다면 효용은 A에서보다 증가한다.
- ② 갑에게 B와 C의 상품 묶음이 주는 효용은 동일하다.
- ③ 갑은 상품 '가' 한 단위를 포기하는 대가로 D에서보다 B에서 상품 '나'를 더 많이 요구할 것이다.
- ④ 을에게 상품 '다'와 '라'는 완전 대체재이다.
- ⑤ 을의 예산선과 무차별 곡선이 일치할 경우 그의 최적 선택점은 1개이다.

21. 다음은 어느 회사가 생산하는 DVD 상품의 시장 특성이다. 이 시장에 대한 분석으로 적절하지 않은 것은? [2.5점]

- 시장에 다른 경쟁 기업은 없다.
- 수요 함수는  $P = 200 - 0.1Q$ 이다. (P: 가격, Q: 거래량)
- 생산 비용 전부가 초기 생산 단계에 한 번만 투입된다.
- 생산량이 1천 장일 때 평균 생산 비용은 80원이다.

- ① 1천 장을 판매할 때 최대 이윤을 얻을 수 있다.
- ② 이윤 극대화 상태에서 기업의 총이윤은 2만원이다.
- ③ 순사회편익이 가장 극대화되는 생산량은 1천 장이다.
- ④ DVD 1장 가격이 150원일 때 500장의 수요가 예상된다.
- ⑤ 평균 생산 비용은 생산량 확대에 따라 지속적으로 감소한다.

22. 다음 글의 밑줄 친 ㉠~㉣ 현상에 대한 설명으로 옳은 것을 <보기>에서 고른 것은?

케인지언(Keynesian)의 통화정책의 전달 경로에 의하면, 정부가 ㉠ 확대 통화정책을 실시해도 이자율이 더 이상 낮아지지 않게 되면 더 이상의 통화 팽창은 효력을 잃게 된다. 아울러 경제에 대한 전망이 나빠지면 ㉡ 투자지출은 이자율의 하락에도 거의 반응하지 않게 된다. ㉢ 경기 침체는 그 자체로 재정 수지의 악화를 가져온다. 그렇다고 건전 재정을 추구하게 되면 재정정책은 경기 순응적이 되어 경기 안정화 기능을 상실하게 된다.

—<보 기>—

- ㉠. ㉠은 자산으로서의 화폐에 대한 수요가 사라지기 때문이다.
- ㉡. ㉡은 화폐 수요의 이자율 탄력성이 매우 크기 때문이다.
- ㉢. ㉢은 투자지출이 이자율에 대해 탄력적이기 때문이다.
- ㉣. ㉣은 재정의 자동안정장치가 작동하기 때문이다.

- ① ㉠, ㉡    ② ㉠, ㉢    ③ ㉡, ㉢    ④ ㉡, ㉣    ⑤ ㉢, ㉣

23. 다음은 A국과 B국의 옥수수 교역에 대한 설명이다. 이에 대한 분석으로 옳은 것만을 <보기>에서 있는 대로 고른 것은? [2.5점]

A국과 B국 두 나라로 구성된 국제 경제에서 각 나라의 옥수수에 대한 수요 곡선과 공급 곡선이 아래와 같다. 옥수수의 국제 균형 가격은 옥수수의 수출량과 수입량이 일치하는 수준에서 형성된다. 단, 옥수수의 가격 P는 양국에서 동일한 통화로 표현되고 있으며, 무역에 따르는 어떤 비용과 규제도 없다.

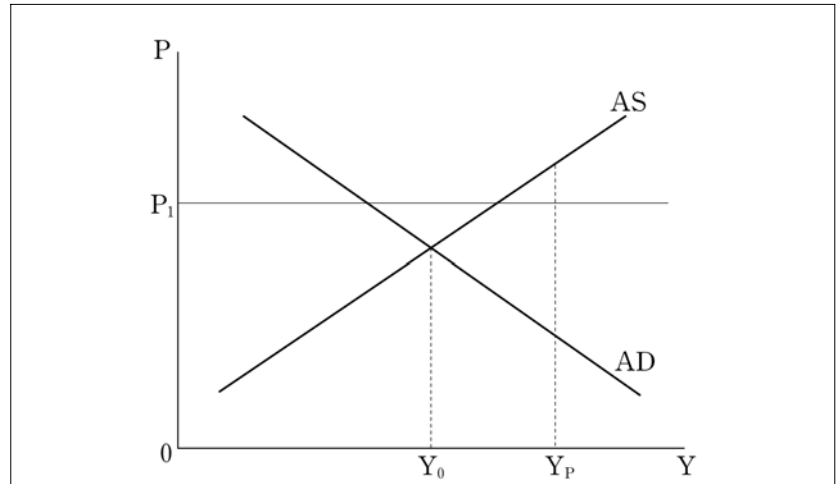
A국	B국
수요 곡선 $Q_{AD} = 100 - 2P$	수요 곡선 $Q_{BD} = 80 - 4P$
공급 곡선 $Q_{AS} = 20 + 2P$	공급 곡선 $Q_{BS} = 40 + 4P$

—<보 기>—

- ㉠. 균형 교역량은 30이다.
- ㉡. A국이 수출하고 B국이 수입하게 된다.
- ㉢. 교역 시에 A국은 소비자 잉여가, B국은 생산자 잉여가 증가한다.

- ① ㉠    ② ㉡    ③ ㉢    ④ ㉠, ㉡    ⑤ ㉡, ㉢

24. 다음은 어느 나라 ○○○○년 국민경제 상황을 기록한 것이다. 이에 대한 옳은 분석을 <보기>에서 고른 것은?



○○○○년에 국민경제는 물가가  $P_1$ 인 수준에서 경제 활동이 이루어졌다. 단, 국민경제는 가계와 기업의 민간 부문으로만 구성되어 있으며, 생산 활동에 따르는 감가상각은 발생하지 않는다고 가정한다. (그래프에서 Y는 국민소득 수준, P는 물가 수준, AD는 단기 총수요 곡선, AS는 단기 총공급 곡선,  $Y_p$ 는 잠재 국민소득 수준을 나타낸다.)

—<보 기>—

- ㉠. 인플레이션 갭이 존재하였다.
- ㉡. 실현된 투자지출이 계획된 투자지출보다 컸다.
- ㉢. 장기적으로 경제는  $Y_0$ 를 향해 움직여 갈 것이다.
- ㉣. 불균형 상태이며 국민소득 삼면 등가의 법칙이 성립하였다.

- ① ㉠, ㉡    ② ㉠, ㉢    ③ ㉡, ㉢    ④ ㉡, ㉣    ⑤ ㉢, ㉣

25. 표는 우리나라 소비자 물가지수에 관한 것이다. 이에 대한 분석 및 추론으로 옳은 것을 <보기>에서 고른 것은? [1.5점]

(기준 연도 2005년 물가지수 = 100)

품 목	가중치	물가지수	
		2008년	2009년
식료품·비주류 음료	140.4	108.2	116.3
주류·담배	14.6	100.8	101.9
의복·신발	58.4	108.1	113.6
주거 및 수도·광열	170.4	109.7	110.9
⋮	⋮	⋮	⋮
합 계	1000.0		
가중 평균 물가지수		109.7	112.8

—통계청, 『물가연보』—

—<보 기>—

- ㉠. 2009년의 소비자 물가는 2008년 대비 12.8% 상승했다.
- ㉡. 모든 품목의 기준 연도 물가지수는 100으로 동일하다.
- ㉢. 각 연도의 소비자 물가지수를 산정할 때 그 연도의 품목별 가중치를 적용한다.
- ㉣. 물가 변화시 소비자의 구매 적응 행동이 반영되지 않아 생계비 변화가 과대평가되는 경향이 있다.

- ① ㉠, ㉡    ② ㉠, ㉢    ③ ㉡, ㉢    ④ ㉡, ㉣    ⑤ ㉢, ㉣



26. 표에 기초한 각국 환율에 대한 분석 및 추론으로 옳은 것은?  
(물가와 환율은 연중 일정하다고 가정함.)

나라	빅맥 햄버거 가격 (각국 통화)		대미 환율 (각국 통화/달러)	
	2008년	2009년	2008년	2009년
미국	3	4	-	-
갑국	300	400	150	200
을국	60	80	20	10
병국	6.6	4.4	2.0	1.1

\* 빅맥 지수: 미 달러화로 환산된 빅맥 햄버거 가격

- ① 빅맥 지수에 따르면 2008년 갑국의 통화는 저평가되어 있다.
- ② 2008년 대비 2009년에 갑국의 수출 가격 경쟁력이 약화되었다.
- ③ 명목 환율이 구매력 평가설에 가장 근접한 나라와 시기는 갑국 2008년이다.
- ④ 2008년 대비 2009년에 미국인들의 을국과 병국으로의 여행이 증가했을 것이다.
- ⑤ 빅맥으로 구매력 평가가 성립한다면 2008년 병국의 구매력 평가 환율은 달러 당 3.3이 되어야 한다.

27. (가)와 (나)에 부합하는 연구 방법에 대한 설명으로 가장 적절한 것은?

(가) 샤르트르 대성당은 돌과 유리로 지어졌다. 그러나 그것은 단순한 돌과 유리 덩어리가 아니다. 그것이 무엇이고 어떤 의미를 지니는가를 이해하기 위해서는 돌과 유리의 일반적 속성 이상의 것, 모든 건물에 공통된 것 이상의 것을 알 필요가 있다. 곧 특정한 시기에 특정한 사회 구성원들이 그 성당에 부여한 의미를 알아야 한다. 그것은 사회에 대해서도 마찬가지다. 사회 역시 특정한 맥락에서 상호 작용하는 인간 행위의 결과다. 따라서 사회 현상이란 동기와 의미, 맥락을 고려해서 연구해야만 한다.

(나) 자연 과학의 대상이 사회 과학의 대상보다 더 규칙적이다. 하지만 사회 현상에도 고도의 규칙성이 있다. 예를 들어 사람들이 아이를 낳는 이유는 매우 다양하지만, 한 사회의 출산율은 매년 큰 변동 없이 안정적이다. 개인의 태도가 아니라 사회가 출산율을 결정하기 때문이다. 따라서 출산율을 결정하는 요인은 사회에 대한 객관적 연구를 통해 확인할 수 있다.

- ① (가)는 마르크스주의와 밀접한 관련이 있다.
- ② (가)는 객관적인 사회적 실재가 존재하지 않는다고 전제한다.
- ③ (가)는 사회 현상에서 보편적 법칙을 찾아내는 것이 불가능하거나 불필요하다고 본다.
- ④ (나)는 뒤르켐보다 베버로부터 영향을 많이 받았다.
- ⑤ (나)는 인간의 정신적 세계를 객관적으로 연구할 수 없다고 본다.

28. 다음은 한 고전 사회학자에 관한 글이다. 이 고전 사회학자의 입장에 부합하는 것만을 <보기>에서 있는 대로 고른 것은? [2.5점]

그가 사용하는 사회학적 방법은 사회 현상이 사물로서, 즉 개인에 외재하는 실체로서 연구되어야 한다는 기본 원리에 근거하고 있다. ... (중략) ... 그는 사회 분업이 심화됨에 따라 사회를 결합하는 방식이 기계적 연대에서 유기적 연대로 변화하면서 현대 사회의 여러 문제가 발생한다고 보았다. 즉 사회의 규제 정도와 통합 정도가 각각 약해지면서 높은 자살률과 같은 사회 병리 현상이 나타난다는 것이다. 사회 병리를 치유하기 위해 그는 유기적 연대에 적합한 집합 의식의 필요성을 인식했다. 그리고 이러한 집합 의식의 사회적 기원과 기능을 확인하기 위해 원시적 종교를 연구했다.

<보 기>

- ㄱ. 사회 현상의 원인은 사회적 사실에서 찾아야 한다.
- ㄴ. 동질성을 강조하는 집합주의가 유기적 연대의 기초다.
- ㄷ. 개인의 의식은 사회 현상에서 종속 변수의 위치를 차지한다.
- ㄹ. 공연장에서 인기 연예인에 대한 열광은 일종의 집합 의식이다.

- ① ㄱ, ㄷ                      ② ㄴ, ㄷ                      ③ ㄴ, ㄹ
- ④ ㄱ, ㄴ, ㄹ                ⑤ ㄱ, ㄷ, ㄹ

29. 밑줄 친 '이 이론'에 대한 설명으로 옳지 않은 것은?

고전적 사회 운동 이론은 집합 행동 상황에서 발생하는 집합적 흥분의 전염 혹은 체계 긴장에서 초래된 상대적 박탈감에 의해 사회 운동의 발생을 설명한다. 이처럼 사회 운동의 비합리성과 심리적 불안감을 강조하는 입장과는 달리, 이 이론은 사회 운동을 억압적인 기존 질서에 대한 합목적적 도전으로 이해하고 있다. 이 이론에 의하면 사회 운동을 원하는 사람에 의해 사회 운동이 자연 발생적으로 생기는 것은 아니다. 사회 운동은 의도적으로 조직하고 동원해야만 가능하다. 이 이론은 사회 운동의 발생 요인으로서 사회 운동에 필요한 자원을 강조한다.

- ① 갈등론적 관점에서 비롯된 사회 운동 이론이다.
- ② 사회 운동의 성공 요인으로 참여자의 정체성과 가치 지향을 중시한다.
- ③ 사회 운동을 사회 병리 현상이라기보다 사회 집단의 이익 추구 현상이라고 본다.
- ④ 사회 운동 단체는 여타 조직과 마찬가지로 재원 마련, 홍보, 사업 확장을 모색한다고 주장한다.
- ⑤ 사회적 긴장과 불만이 존재한다는 사실에 의해서만 사회 운동이 발생하는 것은 아니라고 본다.

30. (가), (나)에 대한 추론으로 옳지 않은 것은?

(가) 사람들은 자기들에게 익숙한 것을 기준으로 다른 사람 또는 다른 민족이나 사회의 문화를 평가하는 경향이 있다. 모건(L. Morgan)의 경우 서구의 일부일체제, 유일신, 발달된 사회 조직이라는 기준에 따라 야만, 미개, 문명을 구분하였다. 그는 진정한 '문화'는 서구에만 존재한다고 믿었다. 이런 맥락에서 아직까지도 ㉠ 일부 서구인들은 자신들이 혐오하는 음식을 먹는 아시아인들이나 아프리카인들을 비정상적이고 야만적이라고 비난하기도 한다. 이렇게 자기에게 익숙한 것을 기준으로 세상을 보면 다른 민족의 문화를 무시하거나 혐오하게 된다. 그리고 이러한 무시나 혐오는 외국인에 대한 폭력, 인종 청소, 침략 등으로 나타나기도 한다.

(나) 문화를 평가할 때는 그 사회가 처한 역사적, 사회적 맥락을 고려해야 하지만, 동시에 보다 객관적 입장에서 그 장단점을 볼 수 있어야 한다. 그렇게 하지 않으면, 문화상대주의적 입장이라도 여러 가지 문제를 낳을 수 있다. 예컨대, ○○○는 서양과 다른 자기 문화의 독자성을 강조했다. 그에 따르면 민주주의나 인권 같은 서구의 가치는 문화가 전혀 다른 자기 민족에 맞지 않는다는 것이다. ㉡ ○○○는 보편적 기준에서 자기 문화에 대해 비판적으로 성찰하기를 거부하고, 권위주의적 체제를 수립하여 인권과 정치적 자유를 침해했다. 그러나 그의 주장과는 달리 인권은 서구만의 가치가 아니라 인류 공통의 가치다.

- ① (가)는 문화에 대해 상대주의적 태도가 필요하다는 것을 보여준다.
- ② (가)의 ㉠은 문화를 총체적 생활 양식으로 보기 때문에 발생한다.
- ③ (나)는 문화상대주의가 보편적 가치와 결합되어야 한다는 것을 보여준다.
- ④ (나)의 ㉡은 극단적 문화상대주의가 자민족중심주의에 빠질 수 있다는 것을 보여준다.
- ⑤ (나)에 따르면 (가)의 ㉠은 인권 운동가들이 아프리카의 여성 할레 문화에 대해 비정상적이고 야만적이라고 비난하는 것과 구별해야 한다.

31. 사회 불평등에 관한 기본 개념인 (가)와 (나)에 대한 설명으로 옳은 것은? [2.5점]

(가) 생산 수단의 소유 여부에 따라 구분되는 사회 집단  
(나) 권력·부·명예를 둘러싼 경쟁의 결과 생겨난 불평등한 사회 집단

- ① (가)의 구분 기준에 소득 수준은 포함되지 않는다.
- ② (가)의 이론에 따르면 토지 소유자는 현대 사회에서 지배 집단의 중심이다.
- ③ (가)에 비해 (나)의 구분 기준이 객관적이다.
- ④ (가)는 갈등론적 개념이며, (나)는 기능론적 개념이다.
- ⑤ (가)의 이론보다 (나)의 이론은 집단 소속감의 중요성을 강조한다.

32. 다음은 어느 연구 계획서를 요약한 것이다. 이에 대한 설명으로 옳은 것만을 <보기>에서 있는 대로 고른 것은? [1.5점]

(가) 연구 주제: 사회 경제적 지위가 출산 장려 정책에 대한 태도에 미치는 영향  
(나) 조사 대상: 20세 이상의 전국 성인 남녀  
(다) 조사 방법: 구조화된 질문지를 이용, 비확률 표본 추출, 1,000명에 대하여 설문 조사 실시  
(라) 가설: 사회 경제적 지위가 높을수록 출산 장려 정책을 지지하는 비율이 높을 것이다.  
(마) 변수 측정: '사회 경제적 지위'는 (바)의 설문 (1), '출산 장려 정책 지지 여부'는 설문 (2)로써 측정한다.  
(바) 설문 문항  
설문 (1) 우리나라 사람을 아래와 같이 4개의 계층으로 나눈다면 귀하는 어디에 속한다고 생각하십니까?  
\_\_\_\_\_ 1) 상층 \_\_\_\_\_ 2) 중의 상층  
\_\_\_\_\_ 3) 중의 하층 \_\_\_\_\_ 4) 하층  
설문 (2) 귀하는 출산 장려 정책을 지지하십니까?  
\_\_\_\_\_ 1) 예 \_\_\_\_\_ 2) 아니오

<보 기>

ㄱ. 종속 변수는 명목 척도로 측정된다.  
ㄴ. 조사 결과는 20세 이상의 전국 성인 남녀에 대하여 일반화할 수 있다.  
ㄷ. (라)의 '사회 경제적 지위'는 독립 변수이며, 설문 (1)에서 서열 척도로 측정된다.  
ㄹ. 설문 (1)은 (라)의 '사회 경제적 지위'에 대한 조작적 정의로부터 도출된다.

- ① ㄱ, ㄴ                      ② ㄱ, ㄷ                      ③ ㄴ, ㄹ
- ④ ㄱ, ㄷ, ㄹ                ⑤ ㄴ, ㄷ, ㄹ

33. 다음은 사회 발전론의 한 시각이다. 이에 부합하는 진술을 <보기>에서 고른 것은? [1.5점]

모든 사회는 애초에는 전통 사회에 머물러 있었으나, 이 중 일부는 전통 상태에서 벗어나 근대 사회로 이행하였다. 경제적 면에서 이러한 이행 과정은 전통 사회, 도약을 위한 선조건, 도약, 성숙, 고도의 대량 소비의 5단계로 나뉜다. 사회학적인 면에서 근대화란 귀속성에서 업적성으로, 특수주의에서 보편주의로, 집합 지향에서 개인 지향 등으로 이행하는 것을 가리킨다.

—<보 기>—

ㄱ. 선진국의 근대화는 후진국의 저발전예 의존한다고 본다.  
 ㄴ. 모든 국가가 유사한 근대화 경로를 거친다고 가정하는 경향이 있다.  
 ㄷ. 근대화는 초국적 수준에서 통합된 세계 체계가 등장함으로써 가능해졌다고 본다.  
 ㄹ. 교육을 통하여 전통적 가치관에서 벗어나는 것이 사회를 근대화시키는 요인이라 본다.

- ① ㄱ, ㄴ    ② ㄱ, ㄷ    ③ ㄴ, ㄷ    ④ ㄴ, ㄹ    ⑤ ㄷ, ㄹ

34. 다음 (가)~(다)의 문화 현상에 대한 설명으로 옳은 것을 <보기>에서 고른 것은? [1.5점]

(가) 과거에는 가족이 겨울동안 먹을 김치를 한꺼번에 많이 담가 항아리에 보관하여 먹었으나, 최근 대부분의 가정에는 김치 냉장고가 있어서 계절에 상관없이 필요한 만큼 수시로 김치를 담가 먹고 있다.  
 (나) 칠성각은 우리나라 사찰에서만 볼 수 있는 전각이다. 원래 칠성 신앙은 민간에 널리 퍼져있던 무속 신앙이며, 칠성각은 칠성신을 모시는 전각이었다. 그런데 불교가 정착하는 과정에서 칠성각이 사찰의 일부가 되었다.  
 (다) 남미 아마존강 유역의 자파테크(Japatek) 족은 나체로 살았다. 1940년대 이곳에 처음 도착한 가톨릭 신부들은 자파테크 족의 생활 양식을 무시하고 서구식 옷을 입혔다. 하지만 이 옷 때문에 자파테크 족은 피부병에 걸리고, 몸에 장식한 사회적 계층의 표시가 보이지 않게 되었다.

—<보 기>—

ㄱ. (가)의 김치 냉장고는 1차적 발명에 의한 문화의 내재적 변동에 해당된다.  
 ㄴ. (나)의 칠성 신앙은 자극 전파가 일어난 예이다.  
 ㄷ. (나)에서 사찰의 칠성각은 문화 융합에 해당된다.  
 ㄹ. (다)의 자파테크 족 사회에서 강제적 문화 접변이 나타났다.

- ① ㄱ, ㄴ    ② ㄱ, ㄷ    ③ ㄴ, ㄷ    ④ ㄴ, ㄹ    ⑤ ㄷ, ㄹ

35. 다음 사례에 관한 법적 판단으로 옳은 것은?

금치산자인 갑은 법정대리인의 동의가 없었음에도 불구하고, 동의서를 위조하여 이를 신뢰하는 을에게 자신이 소유하고 있던 X부동산을 2억 원에 매도하였다.  
 을은 갑으로부터 X부동산의 소유권 이전등기를 받은 후 병에게 X부동산을 3억 원에 매도하고, 병 명의로 소유권 이전등기를 하였다.

- ① 갑이 금치산자이므로 갑과 을 사이의 매매계약은 무효이다.  
 ② 등기의 공신력으로 인하여 병은 X부동산의 소유권을 취득한다.  
 ③ 갑은 동의서를 위조하였으므로 을과 체결한 매매계약을 취소할 수 없다.  
 ④ 갑이 을과 체결한 매매계약을 취소하더라도 이러한 취소의 효력은 병에게 미치지 않는다.  
 ⑤ 갑은 을과 체결한 매매계약을 취소하고 이를 병에게 주장하여 X부동산의 소유권을 회복할 수 있다.

36. 다음 (가), (나)의 법리가 적용될 수 있는 경우를 <보기>에서 바르게 연결한 것은?

(가) 보조행위가 유효하여야 독립행위는 유효하게 된다.  
 (나) 종된 법률행위는 주된 법률행위와 그 법률상 운명을 같이 한다.

—<보 기>—

ㄱ. 혼인이 무효이면 부부재산계약도 유효하지 않게 된다.  
 ㄴ. 매매계약이 무효이면 계약금계약도 유효하지 않게 된다.  
 ㄷ. 금전소비대차계약이 무효이면 이를 담보하는 저당권 설정계약도 유효하지 않게 된다.  
 ㄹ. 허가가 무효이면 이러한 허가를 요건으로 하여 행한 법률행위도 유효하지 않게 된다.  
 ㅁ. 법정대리인의 동의가 무효이면 이러한 동의에 기초하여 한 행위무능력자의 법률행위도 유효하지 않게 된다.

- |   |     |     |   |     |     |
|---|-----|-----|---|-----|-----|
|   | (가) | (나) |   | (가) | (나) |
| ① | ㄱ   | ㄴ   | ② | ㄴ   | ㄹ   |
| ③ | ㄷ   | ㄱ   | ④ | ㄹ   | ㅁ   |
| ⑤ | ㅁ   | ㄷ   |   |     |     |

37. 다음 사례에 관한 법적 판단으로 옳지 않은 것은?

갑(행위능력자)은 전기 다리미(A회사 제조)를 판매업자인 을로부터 전화로 권유받고 구입하였다. 계약 당시에 갑은 대금을 20% 할인받으면서 어떠한 일이 있어도 계약을 철회하지 않기로 합의하였다. 갑은 을로부터 전기 다리미를 구입한 후 1주일 사용하였는데 전기 다리미의 이상 과열로 인하여 화상을 입었다. 전기 다리미의 보증서에는 “전기 다리미의 사용상 발생하는 손해에 대하여 제조사는 일체의 책임을 지지 않는다.”고 기재되어 있다.

- ① 을은 갑에 대하여 전기 다리미에 대한 하자담보책임을 진다.
- ② A회사는 갑에 대하여 전기 다리미에 대한 하자담보책임을 지지 않는다.
- ③ 계약 후 14일 이내이면 갑은 전기 다리미 구입계약을 취소할 수 있다.
- ④ 갑과 을 사이의 전기 다리미 매매계약에는 ‘방문판매 등에 관한 법률’이 적용된다.
- ⑤ A회사는 과실이 없더라도 ‘제조물책임법’에 따라 갑의 화상에 대한 손해배상책임을 진다.

38. 다음 사례에 대한 설명으로 옳은 것을 <보기>에서 고른 것은? [2.5점]

- A사 모바일 콘텐츠 팀장인 갑은 B사가 운영하는 이동 전화망 내 이동 통신 서비스에 음란한 영상을 배포한 행위로 기소되었다. 갑은 형사재판에 적용되는 법률의 조항이 헌법에 위반된다면서 법원에 위헌법률제청신청을 하였으나 기각되어 헌법소원을 청구하고자 한다.
- 을은 우안의 시력이 상실되었으나 좌안은 1.0의 시력을 가지고 있다. 취업을 위해 을이 제1종 운전면허를 취득하려 하였으나 도로교통법시행령 제45조에서 제1종 운전면허 적성 기준으로 양쪽 눈의 시력이 각각 0.5 이상일 것을 규정하고 있어서 운전면허를 취득할 수 없게 되자 해당 조항이 헌법에 위반된다면서 헌법소원을 청구하고자 한다.
- C사와의 부동산 관련 소송에서 패소한 병은 재판장이 자신의 변론 기회를 제대로 주지 않아 패소하게 되었다고 판단하고, 법원의 패소 판결로 인하여 자신의 기본권이 침해되었다면서 헌법소원을 청구하고자 한다.

<보기>

- ㄱ. 헌법재판소는 갑의 표현의 자유를 제한한 해당 법률 조항의 위헌 여부를 심사할 것이다.
- ㄴ. 시각 장애인만 안마사 자격을 취득할 수 있다는 법률조항이 위헌이라며 헌법소원을 청구한 사례에서 청구인이 평등권 이외에 침해되었다고 주장한 기본권과 을이 침해되었다고 주장한 기본권은 동일한 기본권이다.
- ㄷ. 을과 병이 침해되었다고 주장한 기본권은 적극적으로 국가에 대하여 특정한 행위를 요구하거나, 국가의 보호를 요청할 수 있는 권리에 해당한다.
- ㄹ. 갑, 을, 병이 청구한 헌법소원은 적법한 청구에 해당하므로 헌법재판소는 인용결정 또는 기각결정을 하게 될 것이다.

- ① ㄱ, ㄴ    ② ㄱ, ㄷ    ③ ㄴ, ㄷ    ④ ㄴ, ㄹ    ⑤ ㄷ, ㄹ

39. (가)와 (나)의 사례에 대한 법적 판단으로 옳은 것은?

(가) 갑은 A시에 있는 녹지 지역에 별장을 건축할 계획으로 건축허가 여부에 대해 A시에 서면 문의를 하였더니 A시 건축과장으로부터 건축허가를 해 줄 수 있다는 공적인 견해 표명을 받았다. 이에 갑은 별장을 건축하기 위한 건물설계를 의뢰하는 등 공사 준비를 위한 비용을 지출하였다. 그러나 허가권자인 A시 시장은 해당 토지가 녹지보전지역임을 이유로 갑의 건축허가를 적법하게 거부하였다.

(나) B시에 위치한 골프장을 소유하고 있던 을은 골프장 증설을 위한 사업계획변경승인을 B시로부터 받고 증설 공사를 진행 중이다. 골프장 건설 현장 근처에서 축산업을 하는 병은 사육장 근처에서 진행 중인 골프장 건설 소음으로 인해 피해를 입고 있다.

<보기>

- ㄱ. (가)에서 A시 건축과장의 답변 과정에서 건축과장의 과실이 있었다면 갑은 손해배상을 청구할 수 있다.
- ㄴ. (가)에서 행정행위에 대한 신뢰보호 원칙보다 법률 적합성의 원칙이 우선한다면 갑은 취소심판을 청구할 수 있다.
- ㄷ. (나)에서 병은 법원에 골프장 공사중지가처분신청을 할 수 있다.
- ㄹ. (나)에서 병은 환경분쟁조정위원회에 B시를 당사자로 하여 환경분쟁조정을 신청할 수 있다.

- ① ㄱ, ㄴ    ② ㄱ, ㄷ    ③ ㄴ, ㄷ    ④ ㄴ, ㄹ    ⑤ ㄷ, ㄹ

40. 밑줄 친 ㉠~㉥을 갑이 집으로 돌아올 수 있는 빠른 순서에 따라 옳게 배열한 것은? [1.5점]

갑은 호프집에서 술에 취한 손님 을이 동료 병에게 포크로 위협하면서 시비를 걸자 을을 힘껏 밀쳐 넘어뜨렸는데, 넘어진 을은 중상을 입고 병원에 입원하였다. 갑은 호프집 주인의 신고로 출동한 경찰에 의해 현행범으로 체포되어 다음날 구속영장이 청구되었다. 갑의 부인은 남편이 집으로 돌아올 수 있는 형사처벌상 방법들을 알아보니 ㉠보석제도, ㉡가석방제도, ㉢구속적부심제도, ㉣영장실질심사제도, ㉤무죄판결 등이 있다는 것을 알게 되었다.

- ① ㉠ - ㉡ - ㉢ - ㉣ - ㉤
- ② ㉡ - ㉢ - ㉠ - ㉣ - ㉤
- ③ ㉡ - ㉣ - ㉠ - ㉤ - ㉢
- ④ ㉢ - ㉠ - ㉡ - ㉣ - ㉤
- ⑤ ㉢ - ㉡ - ㉠ - ㉣ - ㉤

- 수 고 하 셧 습 니 다 -