

2011학년도 중등교사신규임용후보자선정경쟁시험

일반사회

1차 시험	2 교시 (전공)	40 문항 80 점	시험 시간 120 분
-------	-----------	------------	-------------

- 문제지 전체 면수가 맞는지 확인하시오.
- 문항의 배점이 1.5점과 2.5점인 문항에는 배점이 표시되어 있습니다. 나머지 문항은 2점입니다.
- 각 문항의 정답을 컴퓨터용 흑색 사인펜을 사용하여 OMR 답안지에 표시하시오.

1. 다음은 미국 사회과교육의 발달 과정에서 나타난 강조점들이다. 이에 대한 설명으로 옳은 것만을 <보기>에서 모두 고른 것은?

- (가) 결과보다는 과정을 중시하는 입장으로, 일상생활 속에서 직면하게 되는 문제 해결에 필요한 지식과 가치를 탐구하는 과정에서 시민적 자질이 육성된다고 강조한다.
- (나) 시민으로서 갖추어야 할 자질이란 이미 사회적 합의를 얻고 있는 가치로 보고, 그것을 다음 세대에 전달하여 사회적 안정과 발전을 기대하려 하는 것이라고 강조한다.
- (다) 사회과를 구성하는 학문의 지식 구조와 탐구 방법을 학습함으로써 과학적이고 합리적인 사고를 할 수 있고, 그것이 바람직한 시민적 자질 향상의 기초가 될 수 있다고 강조한다.

—<보 기>—

- ㄱ. (가)는 듀이(J. Dewey)의 반성적 사고의 영향을 받아 학습자 개인에게 의미 있고 사회적으로도 중요한 문제를 다루면서 의사 결정력을 함양하는 데 주안점을 두었다.
- ㄴ. (나)는 교수·학습 과정에서 논쟁의 여지가 있는 내용을 다루지 않거나 왜곡한다는 비판을 받고 있다.
- ㄷ. (다)를 강조한 시기에는 1960년대의 '신사회과 운동'을 통해 역사학 중심 사회과교육의 전통적 영향력이 약화되었다.
- ㄹ. 사회과에서 (가)를 강조한 시기는 (나)와 (다)를 강조한 시기보다 우선한다.

- ① ㄱ, ㄴ ② ㄴ, ㄷ ③ ㄱ, ㄴ, ㄷ
 ④ ㄱ, ㄷ, ㄹ ⑤ ㄴ, ㄷ, ㄹ

2. 다음은 특정 시기의 중학교 사회과 교육과정의 일부이다. 이 교육과정의 특징으로 옳은 것만을 <보기>에서 모두 고른 것은? [2.5점]

가. 목표

- (1)~(3): 생략
- (4) 현대 사회의 구조와 기능을 이해시키고, 우리 국민이 해결하여야 할 여러 가지 문제점을 인식시켜, 국가 사회의 발전과 인류의 번영을 위하여 적극 참여하려는 태도를 기른다.
- (5) 여러 가지 자료를 종합·분석·평가하여 지식을 정리하고, 공간과 시간을 관련지어 사회의 여러 가지 측면을 고찰함으로써 보다 넓은 시야에 서서 사회적 현상을 인식하는 능력을 기른다.

나. 내용

제1학년	제2학년	제3학년
(1) 향토 사회생활	(1) 인류와 문화	(1) 민주주의와 정치
(2) 우리나라 각 지역의 생활	(2) 고대 세계의 생활	(2) 국민 생활과 법률
⋮	⋮	⋮
(6) 우리의 당면 과제	(6) 세계의 시련과 오늘의 우리	(7) 우리의 사명

다. 지도상의 유의점

- (1) 지리 부분, 역사 부분, 정치·경제·사회 부분 등으로 세분하지 않고 넓게 사회를 고찰하는 과정의 정신을 올바르게 파악하여, 어느 일부분에 편파되지 않은 학습 지도가 이루어져야 한다.
- (2) 모든 부분에서 국사과의 관련을 긴밀히 하는 동시에, 사회과 전 과정을 통하여 민족 주체 의식이 강조되어야 한다.

(3)~(9): 생략

—<보 기>—

- ㄱ. 사회과의 공식 명칭은 '사회생활과'였다.
- ㄴ. 융합형의 통합 사회과 교육과정을 구현하였다.
- ㄷ. 지식 조작 능력과 사고력 및 판단력을 강조하였다.
- ㄹ. 국사를 독립 교과로 분리하고 도덕 교과를 신설하였다.
- ㅁ. 유신 체제 정당화라는 정치·사회적 의도가 반영되어 있다.

- ① ㄱ, ㄴ ② ㄴ, ㄷ ③ ㄱ, ㄴ, ㄷ
 ④ ㄴ, ㄷ, ㄹ ⑤ ㄷ, ㄹ, ㅁ

3. 다음은 넬슨(J. Nelson)과 마이클리스(J. Michaelis)가 분류한 사회과 교육의 다섯 가지 관점 중 하나이다. 이 관점에 근거하고 있는 다문화교육에 대한 설명으로 옳은 것만을 <보기>에서 모두 고른 것은?

- 사회과교육은 민족, 성, 계층 등 다양한 영역에서 사회 개혁을 통해 정의를 실현하는 시민 양성에 목적을 둔다.
- 사회과교육은 사회적 소수자, 정의, 불평등, 소외 등과 관련된 사회적 쟁점을 주요 내용으로 한다.
- 사회과교육은 비판 의식 함양을 위한 토의·토론 및 실천적 행위를 강조하는 교수·학습 방법을 활용한다.

—<보 기>—

ㄱ. 문화적 적응에 주안점을 두며 국민적 정체성의 동질화를 추구한다.
 ㄴ. 문화적 다양성에 대해 ‘해방적 관용(liberalizing tolerance)’의 시각을 취한다.
 ㄷ. 학생 개인의 특수성이나 소수자 집단의 정체성을 공적 영역의 문제로 간주한다.
 ㄹ. 문화적 차이를 문화 결핍으로 인식하고 사회·경제적 문제와 분리하여 이해한다.

- ① ㄱ, ㄴ ② ㄴ, ㄷ ③ ㄷ, ㄹ
 ④ ㄱ, ㄷ, ㄹ ⑤ ㄴ, ㄷ, ㄹ

4. 다음은 사회과교육의 목표들이다. 이에 대한 설명으로 옳은 것만을 <보기>에서 모두 고른 것은? [1.5점]

- (가) 사회적 효율성의 증진이라는 학교의 역할 속에서 좋은 시민을 양성한다.
 (나) 사회과 교육과정이나 교과 내용의 구성할 때에 사회 교과의 가장 기본이 되는 사실, 개념, 일반화, 가치 등을 중심으로 조직한다.
 (다) 주어진 문제를 현실적으로 파악하고, 논리적으로든 경험적으로든 증명할 수 있는 증거에 의하여 결론을 도출해 내는 사고 방법을 활용한다.
 (라) 과거에 학습한 지식의 통상적인 응용으로는 문제가 해결되지 않기 때문에 새롭게 정보를 해석·분석·조정하는 도전적이고 확장적인 정신을 기른다.

—<보 기>—

ㄱ. (가)가 제시된 전미교육협회(NEA)의 보고서는 사회과가 학교 교과로서 공식적으로 확산되는 계기가 되었다.
 ㄴ. (나)를 통해 학생들은 학습을 효과적으로 할 수 있고, 응용력을 높일 수 있다.
 ㄷ. (다)는 사회를 형성해 온 신념, 가치, 문화를 지탱하는 논리를 강조했다.
 ㄹ. (라)는 켈리(T. Kelly)가 분류한 교사의 역할 중 ‘배타적 편파성’을 강조한다.

- ① ㄱ, ㄴ ② ㄴ, ㄷ ③ ㄷ, ㄹ
 ④ ㄱ, ㄴ, ㄹ ⑤ ㄴ, ㄷ, ㄹ


5. 최 교사는 사회과교육학자들이 제안한 수업 모형에 근거하여 두 과정의 의사 결정 수업을 계획하였다. 최 교사의 수업 활동에 대한 설명으로 옳지 않은 것은?

(가) 진실에 대한 주장을 검증하는 의사 결정	(나) 사회 문제 해결을 위한 의사 결정
호기심 자극→진실에 대한 주장과 근거 제시→증거 수집→(㉠)→결론 도출	(㉡)→대안 모색→결과의 예측→결정의 도출→결정의 정당화→(㉢)

- ① (가)–엄격한 과학적 탐구를 수행한다.
 ② (나)–논리적, 감정 이입적 소통이 이루어지는 토의 수업을 실시한다.
 ③ ㉠–가치를 분석하고 가치 위계를 설정한다.
 ④ ㉡–문제를 명료화하기 위해 사실과 가치 및 개념 정의의 문제를 다룬다.
 ⑤ ㉢–선택된 결정을 가설로 인식하는 자세와 실천적 행위를 강조한다.


6. 그림은 두 교사가 수업 기법 (가)와 (나)의 사례에 대해 대화한 내용이다. 이에 대한 설명으로 옳은 것을 <보기>에서 고른 것은?

(가)의 사례



우리는 빗길에 교차로 교통사고를 유발하는 주요 원인이라고 알고 있어요. 그래서 비오는 날 교차로를 관찰하고, 교통사고가 난 지역과 사건 수를 보면서 평상시보다 정말 많은 사고가 교차로에서 일어난다는 것을 확인해요.

(나)의 사례



비오는 날 교차로를 관찰하고, 교통사고가 난 지역과 사건 수를 기록하여 교차로에서 교통사고가 많이 유발된다는 것을 분석해요. 따라서 운전할 때 빗길 교차로에서 속도를 줄여야 한다는 것이 발견되는 거죠.

—<보 기>—

ㄱ. (가)를 활용하는 선행조직자 수업 모형에서 강조하는 것은 교사의 수업이 학생의 인지구조와 적절한 접촉을 했는가이다.
 ㄴ. (나)와 관련된 수업 모형에서 교사는 학생들이 능동적인 탐구를 할 수 있도록 도와주는 역할을 해야 한다.
 ㄷ. (가)는 구체적인 관찰에서 일반적인 원리를 발견하려는 것이고, (나)는 일반적인 명제에서 구체적인 사실을 학습하려는 것이다.
 ㄹ. (가)와 (나) 모두 사회과의 정의적 목표를 달성하는 수업에는 활용할 수 없다.

- ① ㄱ, ㄴ ② ㄱ, ㄷ ③ ㄴ, ㄷ ④ ㄴ, ㄹ ⑤ ㄷ, ㄹ

7. 다음은 가치 교육의 세 가지 접근법에 대한 설명이다. 옳은 것만을 <보기>에서 모두 고른 것은?

(가)는 학습자로 하여금 논리적 추론과 같은 사고 기능을 습득하게 하고, 하나의 가치가 형성되어 가는 과정·절차를 경험하게 한다.
 (나)는 사회적·도덕적 문제를 다루는 능력, 현대의 개인적 문제에서 도덕적 논점을 확인하는 능력, 그리고 도덕적 능력을 기르기 위해 꼭 해야만 하는 질문들에 대한 탐구 등을 돕는다.
 (다)는 학생들로 하여금 자신이 가지고 있는 가치를 학급에서 발표하게 하는 것은 자유로운 사상의 영역에 속하는 가치의 문제를 공표하게 함으로써 개인의 자유를 침해하는 것이라는 비판을 받고 있다.

—<보 기>—

ㄱ. (가)는 주로 개인적인 관심사나 문제를 다루며, 자아 발달, 주체성 확립 및 가치관 형성을 돕는다.
 ㄴ. (다)는 선택의 단계, 선택을 소중히 여기는 단계, 행동의 단계를 통해 일관성 있는 가치관의 형성이 중요하다고 본다.
 ㄷ. (나)는 가치의 논리성과 정당성을 충분히 변호하는 것을 중시하나, (가)는 가치의 논리성을 밝히는 데 중점을 두지 않는다.
 ㄹ. (가), (나), (다)는 서로 반대되는 것이라기보다는 밀접하게 연관된 것이어서 상호 강화하는 것으로 간주된다.

- ① ㄱ, ㄴ ② ㄴ, ㄹ ③ ㄱ, ㄴ, ㄷ
 ④ ㄱ, ㄷ, ㄹ ⑤ ㄴ, ㄷ, ㄹ

8. 다음은 2007년 개정 사회과 교육과정에서 중점을 둔 개정 방향 중의 하나를 나타낸다. 이러한 개정을 추진하게 된 배경으로 옳은 것을 <보기>에서 고른 것은?

○ 학습 내용을 중영역(중단원)별로 제시하던 방식에서 대영역(대단원)에 통합하여 제시하는 방식으로 변경
 ○ 성취 기준을 대영역별로 제시하며 성취 기준 수의 축소

—<보 기>—

ㄱ. 교육과정 운영의 탄력성과 자율성 부족
 ㄴ. 학습 내용의 반복으로 인한 학습 활동의 체계성 미흡
 ㄷ. 학습 내용 및 방법에 대한 교사의 창의적 선택의 한계
 ㄹ. 과도한 성취 기준 항목으로 인한 수업 목표 및 평가의 일관성 제약

- ① ㄱ, ㄴ ② ㄱ, ㄷ ③ ㄴ, ㄷ ④ ㄴ, ㄹ ⑤ ㄷ, ㄹ

9. (가)의 ㉠과 (나)의 ㉡을 모두 충족하는 질문으로 옳은 것은?

(가) 블룸(B. Bloom)의 인지적 목표와 관련된 질문

(나) 길포드(J. Guilford)는 인간의 인지능력을 기억과 사고로 구분하고, 사고를 다시 인지적 사고, 생산적 사고, 평가적 사고의 세 영역으로 구분하며, 이 중 생산적 사고는 수렴적 사고와 (㉡)로 구분한다.

- ① 인권 문제에 대한 단원을 읽고, 인권의 정의를 내리면?
 ② 프랑스 혁명과 미국 독립 혁명의 발발 원인 중 공통점은?
 ③ 1970년대에 한국에서 급속한 경제 성장이 일어난 원인은?
 ④ 인구 정책과 관련하여 사실적인 요소와 가치 관련 요소를 구분하여 제시하면?
 ⑤ 한 지역의 지역 축제를 살펴보고, 이를 중심으로 지역 축제를 홍보하는 방법을 제시하면?

10. 다음 관점들을 배경으로 하여 나타난 사회과 평가 방법에 대한 설명으로 옳은 것을 <보기>에서 고른 것은? [1.5점]

○ 지식은 인간 존재의 외부에 객관적으로 존재하는 것이 아니라 인간의 내부에서 경험을 통해 구성되는 것이고, 각 개인은 동일한 현상에 대해서 다른 의미를 부여하고 달리 해석할 수 있으며, 그 결과로 각 개인이 구성하는 지식은 다를 수 있다.
 ○ 연구 현장에서 직면하는 다중의 구성 실재에 역동적으로 대응할 수 있는 도구는 인간뿐이다. 연구 도구로서의 연구자는 연구 반응자들의 목소리와 관점을 중시하고 현상들 간의 동시적 상호 작용의 의미를 파악하며, 현상에 담긴 미묘한 의미와 차이를 감지해내고 통찰력을 통해 해석과 판단을 내린다.

—<보 기>—

ㄱ. 평가의 타당도보다는 신뢰도 확보에 더 많은 어려움이 있다.
 ㄴ. 의사 결정 능력 향상 여부를 실제 선택의 문제 상황에서 파악하고자 한다.
 ㄷ. 지식과 기능의 획득 정도에 따른 학생 분류와 사회적 성취에 대한 예측에 목적을 둔다.
 ㄹ. 비판적 사고 기능의 성취 수준을 특정 시점에서 정확하게 측정할 수 있다는 패러다임에 근거한다.

- ① ㄱ, ㄴ ② ㄱ, ㄷ ③ ㄴ, ㄷ ④ ㄴ, ㄹ ⑤ ㄷ, ㄹ

11. 다음은 어느 논쟁 문제 수업 모형에서의 가치 갈등 해결 기준이다. 이에 대한 설명으로 옳은 것을 <보기>에서 고른 것은?

- 두 개 이상의 가치가 충돌하는 경우 인간의 존엄성이라는 기본 가치를 가장 적게 침해하는 가치, 인간의 존엄성을 가장 많이 보장할 수 있는 가치를 선택하는 것이 가치 갈등을 해결하는 방법이 될 수 있다.
- 기본 가치 이외에도 가치를 분석하는 기준이 될 수 있는 것으로는 사회적 가치와 개인적 가치, 보편적 가치와 특수한 가치, 추상적 가치와 구체적 가치 등의 구분이 있다.

—<보 기>—

- ㄱ. 위의 기준은 하버드 모형의 논쟁 문제 수업 단계 중에서 대안 모색 및 결과 예측 단계에서 활용된다.
- ㄴ. 사회적 가치는 개인적 가치보다, 특수한 가치는 보편적 가치보다, 추상적 가치는 구체적 가치보다 우선하는 기준이 된다.
- ㄷ. 올리버(D. Oliver)와 셰이버(J. Shaver)는 가치 갈등 해결을 위한 기준으로 윤리적·법률적 원칙과 가치를 제시했다.
- ㄹ. 고교 평준화 문제는 논쟁 문제 수업에서 해결하기 어려운 문제에 속하는데, 그 이유는 같은 위계에 속하는 자유와 평등이라는 두 가치가 대립하고 있기 때문이다.

- ① ㄱ, ㄴ ② ㄱ, ㄷ ③ ㄴ, ㄷ ④ ㄴ, ㄹ ⑤ ㄷ, ㄹ

12. <표>는 김 교사가 수립한 사회과 목표별 평가 문항 계획표이다. 이에 대한 설명으로 옳은 것을 <보기>에서 고른 것은? [2.5점]

	지식 측정 문항				기능 측정 문항				
	구체적 사실	개념	일반화	총계	해석 기능	분석 기능	종합 기능	총계	
주제1	1(가)	2	2	5	그래프1	2	1	1	4
주제2	2	2	1	5	그래프2	1	2	1	4
주제3	2	1	2	5	표1	1	1	2	4
					표2	1	1	1	3
총계	5	5	5	15	총계	5	5	5	15

—<보 기>—

- ㄱ. 중요한 학습 목표들을 측정하는 탐구 학습의 평가 계획에 해당된다.
- ㄴ. 평가되어야 할 지식 및 기능 목표들의 종류와 수준을 파악하기가 쉽다.
- ㄷ. 인지적 목표와 정의적 목표를 골고루 평가함으로써 평가의 균형성과 타당성을 유지하고 있다.
- ㄹ. “한 사회집단에서 자살률은 직접적으로 개인주의의 정도에 따라서 변하는가?”를 묻는 문항은 (가)의 예에 해당된다.
- ㅁ. 지식 측정 문항은 지식 형태와 주제 내용에 따라, 기능 측정 문항은 각 기능이 활용되는 기능 수준과 교수 매체에 따라 배치되었다.

- ① ㄱ, ㄴ, ㄷ ② ㄱ, ㄴ, ㅁ ③ ㄱ, ㄷ, ㄹ
 ④ ㄴ, ㄹ, ㅁ ⑤ ㄷ, ㄹ, ㅁ

13. 어느 한 사상가의 다음과 같은 주장에 대한 설명으로 옳지 않은 것은? [1.5점]

- (가) [자연상태에서] 한 인간이 다른 인간이 따온 과일이나 죽인 짐승, 숨어 살던 동굴을 가로챌 수는 있을 것이다. 그러나 그가 그 인간을 어떻게 복종시킬 수 있을까? 그리고 아무것도 소유하지 않은 사람들 간에 어떤 종속 관계의 속박이 있을 수 있겠는가?
- (나) 새로운 사회계약의 본질은 다음과 같다. “우리는 저마다 신체와 모든 힘을 공동의 것으로 삼아 일반의지의 최고의 지도 아래 둔다. 그리고 우리는 구성원 하나하나를 전체와 나누어질 수 없는 일부로서 받아들인다.”
- (다) 어떤 토지에 울타리를 두르고 “이것은 내 것이다.”라고 선언하는 일을 생각해내고, 그것을 그대로 믿을 만큼 단순한 사람들을 찾아낸 최초의 사람은 정치사회(국가)의 창립자였다. 말뚝을 뽑아내고, 개천을 메우며 “이런 사기꾼이 하는 말 따위는 듣지 않도록 조심해라. 열매는 모든 사람의 것이며 토지는 개인의 것이 아니라는 점을 잊는다면 너희들은 파멸이다!”라고 동포들에게 외친 자가 있다고 한다면, 그 사람이 얼마나 많은 범죄와 전쟁과 살인, 그리고 얼마나 많은 비참함과 공포를 인류에게서 없애 주었겠는가?

- ① (가)는 사유재산이 사회적 불평등의 원인임을 암시하고 있다.
 ② (나)의 사회계약 행위는 하나의 정신적이고 집합적인 공화국을 만든다.
 ③ (나)의 일반의지는 공동의 이익만을 생각하지만, 전체의지는 사익을 추구하는 특수 의지의 총화이다.
 ④ (나)를 통해 일반의지에 복종하지 않는 사람에게 사회 전체가 복종을 강요할 수 있음을 유추할 수 있다.
 ⑤ (다)는 홉스(T. Hobbes)의 소유권 이론을 비판하고 있다.

14. 다음 글은 민주주의에 관한 어떤 이론이다. 이 이론에 대한 설명으로 옳은 것은?

○ 미국 연방 구성 당시, 사회에 존재하는 집단들이 각각 정치적 의견을 갖지 않을 경우에 정치적 안정과 질서가 불가능할 것이라고 생각한 매디슨(J. Madison)의 견해에 기초하고 있다.

○ 정부의 기본 목적이란 어떤 한 파벌(faction)이 다른 파벌의 자유를 침해하지 못하도록 하면서, 다른 한편으로 파벌들이 그들의 정치적 이익을 자유롭게 증진시킬 수 있도록 보호하는 것이다.

○ 파벌이 민주적 결사체들을 크게 위협하는 것은 아니며, 오히려 정치적 안정의 구조적 차원이자 민주주의의 핵심적인 표현이라고 주장한다. 이에 따르면 다양한 경쟁적 이해관계의 존재란 민주적 균형의 기초이며, 공공정책을 바람직스럽게 발전시키는 토대가 된다.

- ① 정치권력은 경제권력의 불평등한 배분을 반영한다.
- ② 선거와 정당만으로 민주국가의 균형이 확보될 수 있다.
- ③ 정치권력은 항상 특권적 소수에게 집중되는 경향이 있다.
- ④ 정책 형성 및 의사 결정 과정에 필요한 정책 결정권은 널리 분산되어 있다.
- ⑤ 정부, 사용자 대표, 노동조합 대표 3자 간의 합의로 경제를 관리하는 제도를 근간으로 한다.

15. 정부 형태에 관한 다음 신문 기사를 읽고, 대통령제 및 의원내각제와 구별되는 이원정부제의 일반적 특성으로 볼 수 없는 것은?

○○신문 2010년 ○○월 ○○일

○ 최근 국회의장 산하의 헌법개정연구자문단은 우리나라 정부 형태를 이원정부제나 4년 중임 대통령제로 개정할 것을 제안한 바 있다. 이를 계기로 이러한 정부 형태에 대한 관심이 고조되고 있다.

○ 4년 중임 대통령제는 미국의 정부 형태에서, 그리고 이원정부제는 프랑스의 정부 형태에서 그 원형이 발견된다.

- ① 행정권을 국가원수인 대통령과 내각의 수반인 총리가 공유하는 이원적 권위 구조를 가지고 있다.
- ② 총리와 내각은 의회의 다수파로부터 지지를 얻어야 하며, 따라서 의회로부터 불신임을 받을 수도 있다.
- ③ 국가원수인 대통령은 국민에 의해 선출되며, 법률안 제출권을 보유하고 국내 정책을 직접적으로 통제한다.
- ④ 대통령이 소속된 정당과 의회의 다수파의 지지를 얻은 총리가 속한 정당이 다를 수도 있으며, 이런 경우 “동거 정부가 성립되었다.”라고 한다.
- ⑤ 대통령제와 의원내각제가 갖고 있는 문제점을 극복하고 각각의 제도가 갖는 장점을 혼합하여 새로운 정부 형태를 창출하려는 하나의 시도이다.

16. 다음은 우리나라 어떤 대통령이 시행한 정치, 경제, 사회, 문화 영역의 정책들이다. 해당 대통령의 집권 기간 동안 일어난 사건으로 옳은 것은? [2.5점]

○ 많은 논란 속에 국가보안법이 제정되었다.

○ 농지개혁을 시행하여 반(半)봉건적인 지주-소작 관계를 사실상 해체시켰다.

○ 경찰이 불법적으로 반민족행위특별조사위원회 요원들을 체포하였고, 이를 계기로 특위가 와해되었다.

○ 잡지와 신문에서 한자 사용 금지 및 구철자법의 한글 사용을 명하는 ‘한글간소화안’을 발표하였다.

- ① 남조선과도입법위원회에서 선거법이 제정되었다.
- ② 대통령 직선제 개헌안이 국회에서 통과되었다.
- ③ 시민들이 ‘호헌철폐, 독재타도’를 외치며 전국적으로 시위를 벌였다.
- ④ 정부가 농촌 근대화를 주창하고 새마을운동을 본격적으로 실시하였다.
- ⑤ 대학생들이 ‘오라 남으로, 가자 북으로’라는 슬로건을 내걸고 남북 학생 회담을 제안하였다.

17. 국제사회의 평화를 유지하려는 접근법과 관련된 내용으로 타당한 것만을 <보기>에서 모두 고른 것은?

<보 기>

ㄱ. 집단안전보장체제는 국제사회의 행위자들이 갈등을 평화적 방법으로 해결할 것을 약속한 집단안보기구에 가입하고, 만약 어느 행위자가 이러한 약속을 위반할 경우 모든 행위자가 집단적인 제재를 가할 것을 약속하는 체제이다.

ㄴ. 국제법은 강대국의 이익을 반영하는 도구일 뿐이거나, 또는 현존의 국제 질서를 정당화시킬 뿐이라는 등 많은 비판을 받고 있다. 그러나 국제법이 평화 유지의 주요 수단으로 인정되는 것은 대부분의 국제 행위자들이 규칙 준수의 이득이 규칙 위반의 비용보다 더 크다는 점을 인식하고, 국제법을 지키기 때문이다.

ㄷ. 동맹체제는 제3의 국가에 의한 침략이나 위협에 대하여 2개국 이상이 공동의 군사적 대응을 약속하는 체제이다. 동맹의 대표적 유형으로 방위조약에 의한 동맹체제를 들 수 있다. 한국은 미국과 한미상호방위조약을 맺고 있기 때문에 한국이 외부로부터 침공을 당할 경우에 미국의 참전은 ‘자동 개입’ 조항에 근거하여 자동적으로 이루어진다.

ㄹ. 세력균형체제는 행위자 간의 힘의 균형이 이루어질 때 체제가 안정되고, 국제 사회의 평화가 유지될 수 있다는 점에 근거한다. 강력한 힘을 가진 행위자가 제어 당하지 않고 힘을 행사할 때 체제의 안정이 위협받기 때문에 강력한 힘을 가진 행위자의 출현을 방지하는 데 주로 관심을 기울인다.

- ① ㄱ, ㄴ ② ㄴ, ㄷ ③ ㄱ, ㄴ, ㄹ
- ④ ㄱ, ㄷ, ㄹ ⑤ ㄴ, ㄷ, ㄹ

18. 다음 글에 나타난 정당체제와 관련된 설명으로 타당한 것은?

- 한 국가의 정당체제는 그 사회의 제도나 사회적 균열 구조 등에 영향을 받아 형성된다.
- 정당체제를 분류할 때 정당의 수를 기준으로 하여 분류하는 것이 일반적이었으나, 이것만으로는 오늘날 각국에 존재하고 있는 특유한 정당체제를 올바르게 파악하기 힘들기 때문에 정당의 수를 포함하여 정당의 상대적 규모, 경쟁의 보장 유무 등을 고려하여 정당체제를 분류하고 있다.
- 정당체제는 국민의 다양한 요구를 정부의 주요 정책 대안으로 전환시키는 기능인 이익 집약의 형태와 내용에 지대한 영향을 미친다.

- ① 정당 간의 정권 획득을 위한 자유 경쟁이 보장되어 있으나, 정권 교체 없이 어느 하나의 정당이 지속적으로 집권을 하는 경우 이를 패권정당체제라 한다.
- ② 선거제도는 정당체제에 영향을 미치는데, 일반적으로 다수대표제를 채택하는 경우 다당체제가, 비례대표제를 채택하는 경우 양당체제가 형성되는 경향이 있다.
- ③ 양당체제가 나타나는 국가에서는 각 정당이 보다 많은 유권자의 지지를 확보하기 위하여 노력하기 때문에 정강 정책이 비슷하게 수립되는 경향이 나타난다.
- ④ 한국의 정당체제는 한국 사회의 사회경제적 균열 구조나 지역적 균열 구조보다는 묵종성과 민주성이라는 이중적이고 복합적인 정치 문화에 더욱 많은 영향을 받고 있다.
- ⑤ 다당체제가 나타나는 의원내각제 국가에서는 각 정당이 일반적으로 연립을 통해서 집권하게 되는데, 정당 간의 연립은 주로 거대 정당 사이에서 이루어지고 군소 정당은 배제된다.

19. 우리나라는 지난 17대 국회의원 선거 이래 다음과 같은 선거제도를 시행하고 있다. 이 선거제도의 시행과 관련된 설명으로 타당하지 않은 것은?

- 유권자에게 지역구 후보자와 정당 비례 대표에 대하여 각각의 독립적 투표권을 부여한다.
- 지역구 의원은 소선거구 다수 대표제로, 정당 비례 대표 의원은 전국을 단위로 하는 정당 비례 대표 선거에 의해 선출된다.
- 현 국회의원 총수는 299명이며, 245명은 지역구 선거를 통하여, 그리고 54명은 정당 비례 대표 선거를 통하여 선출된다.
- 정당 비례 대표 선거를 위한 후보자 추천에 여성 할당제를 도입하였다.

- ① 1인 2표제에 근거한 혼합 선거제도의 한 유형이다.
- ② 유권자의 분할 투표에 힘입어 군소 정당의 후보자도 국회에 의석을 차지할 수 있었다.
- ③ 여성의 의석 비율을 증가시킴으로써 정치적 평등이라는 민주주의 원칙에 더욱 충실해졌다.
- ④ 지역구에서 각 정당이 얻은 득표를 기초로 하여 각 정당의 전국구 의석을 배분해왔던 위헌적 요소를 해결하였다.
- ⑤ 정당 비례 대표 선거에서뿐만 아니라 지역구 선거에서도 정당의 득표율과 의석 점유율 간의 비례성이 낮았던 문제를 해결하였다.

20. 다음 자료에 대한 경제학적 판단으로 옳은 것만을 <보기>에서 모두 고른 것은? [1.5점]

반도체를 만드는 A전자는 반도체 수요의 감소로 인한 가격 폭락으로 적자가 발생하여 재무적으로 부도난 상태에 있다. A전자를 최종적으로 파산시킬 것인가, 계속 운영할 것인가를 판단하기 위해 아래 자료가 제시되었다.

- 반도체 장비가격: 180억 원
- 연간 노동비용: 200억 원
- 연간 전기료와 반도체 생산의 원료가격: 200억 원
- 현 시점 반도체의 단위당 국제가격: 4천 5백 원
- 현 가격에서의 이윤극대화 생산량: 1천만 개

(단, A전자의 생산비용으로는 반도체 장비가격, 노동비용, 전기료, 원료가격만 있으며, 반도체 장비의 내용연수는 1년이고 연 5천만 개까지 생산할 수 있다. 또한 이 장비는 현재 100억 원에 매각할 수 있다고 가정한다.)

<보 기>

- ㄱ. A전자의 고정비용은 180억 원이다.
- ㄴ. 현 시점에서 평균수입이 평균가변비용보다 크다.
- ㄷ. 현재로서는 생산을 계속하는 것이 더 합리적이다.
- ㄹ. 지금 생산을 중단할 경우 매몰비용은 180억 원이다.

- ① ㄱ, ㄴ ② ㄷ, ㄹ ③ ㄱ, ㄴ, ㄷ
- ④ ㄱ, ㄴ, ㄹ ⑤ ㄴ, ㄷ, ㄹ

21. 어느 상품의 수요와 공급은 다음 표와 같다고 가정한다. 정부가 상품 1단위당 30원의 종량세를 생산자에게 부과할 경우, 이에 대한 설명으로 옳은 것을 <보기>에서 고른 것은? [2.5점]

가격(원)	수요량	공급량
10	130	40
20	110	50
30	90	60
40	70	70
50	50	80
60	30	90
70	10	100

<보 기>

- ㄱ. 과세 후에 정부의 조세수입은 1,500원이 된다.
- ㄴ. 과세 후에 소비자가 상품을 구매하는 가격은 50원이 된다.
- ㄷ. 과세 후에 후생 순손실(deadweight loss)은 600원이 된다.
- ㄹ. 과세 후에 종량세의 생산자 부담은 상품 한 단위당 10원이 된다.

- ① ㄱ, ㄴ ② ㄱ, ㄷ ③ ㄴ, ㄷ ④ ㄴ, ㄹ ⑤ ㄷ, ㄹ

22. 다음은 가격효과에 관한 글이다. 이에 부합하는 판단으로 옳은 것을 <보기>에서 고른 것은?

재화의 가격이 변화할 때 그 재화의 수요량이 변화하는 가격효과는, 다른 재화에 대한 상대가격이 싸지거나 비싸져서 그 재화의 수요량이 늘거나 줄어드는 대체효과와 가격 변화가 실질소득의 변화를 야기해서 이로 인해 수요량이 변화하는 소득효과의 합으로 구성된다.

<보기>

- ㄱ. 아일랜드의 감자와 같은 기쁜재(Giffen goods) 현상은 그 재화의 가격이 상승할 때만 발생할 수 있다.
- ㄴ. 복권이 당첨된 경우의 노동 공급 변화를 해석하는 소득-여가 분석에서 대체효과는 0이다.
- ㄷ. 소비자의 소득이 증가할 때 재화에 대한 수요가 감소하지 않는다면, 재화의 가격이 상승할 때 그 재화에 대한 수요는 분명히 감소한다.
- ㄹ. 저축증대를 위하여 이자소득과 같은 금융소득에 대해 조세를 낮춰야 한다는 주장을 하는 경제학자는 이자율 변화에 대한 저축의 소득효과가 대체효과보다 크다고 본다.

- ① ㄱ, ㄴ ② ㄱ, ㄷ ③ ㄴ, ㄷ ④ ㄴ, ㄹ ⑤ ㄷ, ㄹ

23. 다음 (가), (나)는 특정의 경제적 현상을 보여주는 사례이다. 이를 해소할 수 있는 방안을 옳게 나열한 것을 <보기>에서 고른 것은? [1.5점]

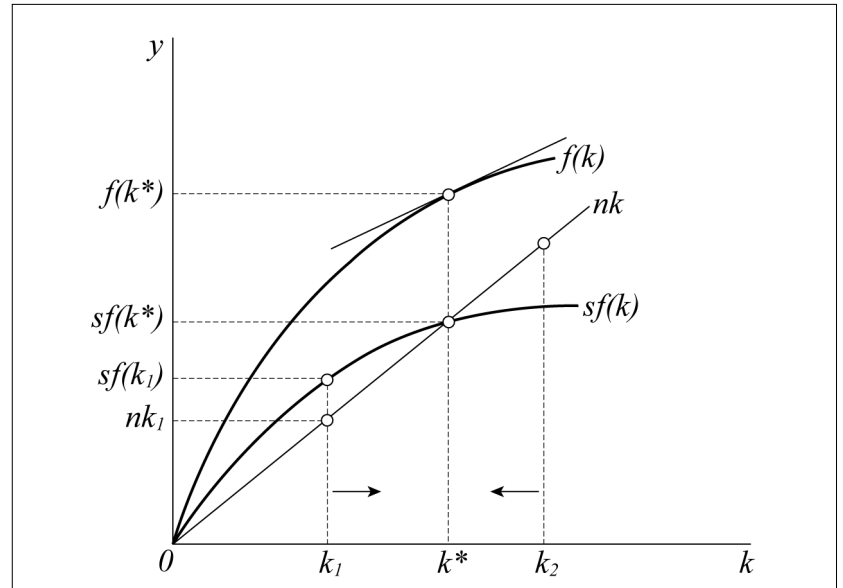
(가) 중고차 판매상은 고객보다 차의 성능에 대해 잘 안다.
 (나) 근로자는 고용주보다 자기가 일을 얼마나 열심히 하는지 잘 안다.

<보기>

- ㄱ. 은행대출시 은행은 우량고객들을 선별하여 신용할당을 한다.
- ㄴ. 기업이 임원의 보수를 기본급에다 실적에 따른 성과급을 동시에 지급한다.
- ㄷ. 주식시장에 상장된 기업에게 기업의 정보를 충분히 공시하도록 의무를 부과한다.
- ㄹ. 화재가 발생할 경우 화재보험회사는 손실의 일부를 보험 가입자에게 부담하게 한다.

- | | |
|--------|------|
| (가) | (나) |
| ① ㄱ, ㄴ | ㄷ, ㄹ |
| ② ㄱ, ㄷ | ㄴ, ㄹ |
| ③ ㄱ, ㄹ | ㄴ, ㄷ |
| ④ ㄴ, ㄷ | ㄱ, ㄹ |
| ⑤ ㄴ, ㄹ | ㄱ, ㄷ |

24. 자료에 제시된 성장모형에 대한 설명으로 옳은 것을 <보기>에서 고른 것은?



이 성장모형은 규모에 대한 보수가 불변인 1차동차 총생산 함수를 가정하기 때문에 1인당 생산량(y)은 자본-노동비율(k)만의 함수가 된다. 그리고 경제가 최초에 어디에서 출발하든 간에 결국에는 $sf(k)=nk$ 를 만족시키는 k^* 로 수렴한다. 이렇게 노동 및 자본의 완전고용이 동시에 달성되는 상태를 균형상태 또는 정상상태(steady state)라고 부른다.

[여기서 s 는 저축성향, n 은 인구증가율, k 는 자본-노동비율(또는 1인당 자본량), y 는 1인당 생산량(또는 1인당 국민소득)을 나타낸다.]

<보기>

- ㄱ. k 의 추가적인 증가에 따른 추가적인 y 의 증가분은 체증한다.
- ㄴ. 다른 조건이 일정할 때, 인구증가율이 높아지면 1인당 국민소득은 감소한다.
- ㄷ. 다른 조건이 일정할 때, 시간이 지남에 따라 국가 간의 소득 격차가 점차 확대된다.
- ㄹ. 다른 조건이 일정할 때, 저축률이 증가하면 완전고용을 달성하는 1인당 자본량이 증가하고 1인당 국민소득도 증가한다.

- ① ㄱ, ㄴ ② ㄱ, ㄷ ③ ㄴ, ㄷ ④ ㄴ, ㄹ ⑤ ㄷ, ㄹ

25. 다음에 제시된 거시경제모형에 대한 분석으로 옳은 것을 <보기>에서 고른 것은?

$$Y^D = C + I + G$$

$$C = 100 + 0.75Y_d$$

$$T = 0.2Y$$

$$I = 40$$

$$G = 100$$

$$Y^D = Y$$

$$Y_F = 700$$

(여기서 Y^D 는 총수요, C 는 소비지출, Y_d 는 가처분소득, T 는 조세, I 는 투자지출, G 는 정부지출, Y 는 국민소득, Y_F 는 완전고용국민소득을 나타낸다.)

*디플레이션 갭 × 정부지출승수 = GDP 갭

- <보기>
- ㄱ. 정부지출승수는 2.5이다.
 - ㄴ. 정부지출승수는 4이다.
 - ㄷ. 디플레이션 갭은 25이다.
 - ㄹ. 디플레이션 갭은 40이다.
 - ㅁ. 디플레이션 갭은 100이다.

- ① ㄱ, ㄷ ② ㄱ, ㄹ ③ ㄱ, ㅁ ④ ㄴ, ㄹ ⑤ ㄴ, ㅁ

26. 다음의 글을 설명할 수 있는 경제모형을 <보기>에서 제시하였다. A, B, C, D에 들어갈 내용으로 옳은 것은? [2.5점]

○ 최근 크게 늘어난 미국의 경상수지적자 문제에는 더 큰 이유가 있다. 경기불황과 조지 W. 부시 대통령이 의회에서 밀어붙인 막대한 세금감면정책 탓에 눈덩이처럼 불어난 재정적자가 그 이유다. 1990년대 재정적자는 다소 해소되었지만 2000년대 들어서서 미국은 다시 한번 많은 채권을 발행하기 시작했다.

- 누리엘 루비니 외(2010), 『위기경제학』

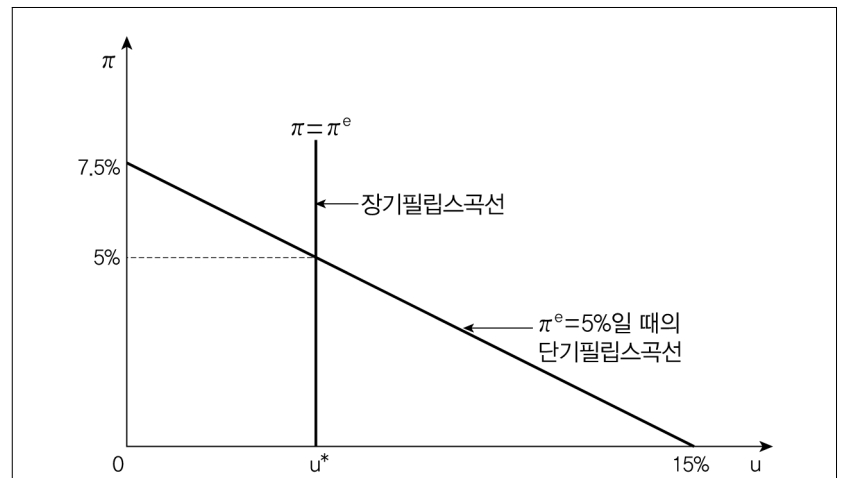
○ 미국 경제는 변동환율제를 채택하고 있다.

<보기>

재정적자가 발생하면 대부자금시장에서 국민저축이 A 하여 이자율이 B 하고, 이에 의해 순자본유출이 C 한다. 순자본유출의 C는 외환시장에서 달러가치 D을 유발하여 경상적자를 초래한다.

- | | | | | |
|---|-----|-----|-----|-----|
| | (A) | (B) | (C) | (D) |
| ① | 감소 | 상승 | 감소 | 상승 |
| ② | 감소 | 상승 | 증가 | 상승 |
| ③ | 감소 | 하락 | 감소 | 상승 |
| ④ | 증가 | 상승 | 증가 | 하락 |
| ⑤ | 증가 | 하락 | 감소 | 하락 |

27. 인플레이션율과 실업률의 관계를 나타내는 필립스곡선의 식은 $\pi - \pi^e = -\alpha(u - u^*)$ 이며, 어떤 경제의 상황을 그림으로 나타내면 다음과 같다. 이에 대한 해석으로 옳은 것만을 <보기>에서 모두 고른 것은?



(단, π 는 인플레이션율, π^e 는 기대 인플레이션율, u 는 실업률, u^* 는 자연실업률을 나타내며 모든 경제 변수들의 단위는 %이다. 그리고 α 는 상수이다.)

- <보기>
- ㄱ. π^e 가 3%이고 실제 인플레이션율이 4%일 때 실업률은 3%다.
 - ㄴ. π^e 가 5%라면 인플레이션율이 1%만큼 하락할 때 희생률은 6이다.
 - ㄷ. 경제주체들이 합리적 기대를 한다면, 통화정책 당국은 실업률 상승 없이 인플레이션율을 낮출 수 있다.
 - ㄹ. 중앙은행의 정책목표가 실업률을 자연실업률에 맞춤으로써 안정적 인플레이션을 유지하는 것이라고 할 때, 경제주체들이 합리적 기대를 한다면 중앙은행이 자연실업률을 4%로 판단하고 통화정책을 시행할 경우 인플레이션이 무한히 증가하게 된다.
- *오쿤의 법칙: 실업률 1% 상승은 GDP 2%의 하락
*희생률: 인플레이션율 1% 감소에 수반되는 GDP의 감소%

- ① ㄱ, ㄷ ② ㄱ, ㄹ ③ ㄴ, ㄷ
④ ㄱ, ㄷ, ㄹ ⑤ ㄴ, ㄷ, ㄹ

28. 다음의 연구 계획에 대한 설명으로 옳은 것을 <보기>에서 고른 것은?

1. 연구주제: 스마트폰의 평가에 관한 신문 보도에 대한 조사연구
2. 연구목적: 스마트폰의 평가에 대한 신문 기사의 내용을 분석하여 객관적인 자료로 제시
3. 조사개요
 - 분석대상: 전국 4대 일간지의 기사에 나타난 스마트폰의 평가에 대한 기사(사설 제외)
 - 조사항목: 스마트폰의 디자인/스마트 폰의 수신기능/스마트 폰의 국내 브랜드 여부
4. 조사기간: 2010. 9. 1~2010. 9. 30

—<보 기>—

- ㄱ. 위의 조사방법은 질적 내용을 양적 자료로 전환하는 방법이다.
- ㄴ. 위의 조사방법은 일반적으로 설문조사방법보다 비용과 시간이 덜 든다.
- ㄷ. 위의 조사연구는 연구자의 편향(bias)을 방지하거나 추적하기 어렵다.
- ㄹ. 위의 조사방법에 있어 조사항목 변수들의 측정수준(단위)은 명목, 서열, 등간, 비율 척도 모두 사용할 수 있다.

- ① ㄱ, ㄴ ② ㄱ, ㄷ ③ ㄴ, ㄷ ④ ㄴ, ㄹ ⑤ ㄷ, ㄹ

29. 다음은 문화 접근 방법에 대한 문화인류학자들의 글이다. 이에 부합하는 설명으로 옳은 것만을 <보기>에서 모두 고른 것은?

- 우리가 문명을 가치 있다고 생각하는 것은 우리가 이 문명 속에서 태어나 줄곧 이 문명이 시키는 대로 해왔기 때문이다. 이렇게 생각해 보면, 감정과 이성 간의 균형을 취하는 방식이 우리와는 다른 문명의 가치를, 그 문명에서 나고 자라지 않은 우리가 이해한다는 것은 매우 어려운 일이다. 인류학적 연구들은 지금 이상으로 우리가 다른 사람들의 문화를 관용해야 한다는 점을 가르쳐 준다.
- 우리 자신의 문화적 안경을 통해 남의 문화를 의식하고 분석적 시각에서 바라보는 것은 고통스러운 일이다. 우리의 안경을 완전히 벗어버릴 수는 없을지라도, 우리는 우리의 안경을 쓰지 않고 다른 민족의 문화적 안경을 통해 그들의 전통과 경험의 맥락에서 판단하고 분석해야 한다.

—<보 기>—

- ㄱ. 문화들 간 공통 가치와 문화 유형 및 구조를 분석하는 것에 그다지 관심이 없다.
- ㄴ. 현지조사를 통해, 귀납적·경험주의적 방식으로 민족지적 자료의 복원을 위해 노력한다.
- ㄷ. 모든 문화가 대등하다는 것을 인정하되, 문화 이해의 기반은 객관적 합리성에서 찾는다.
- ㄹ. 사회마다 그 사회의 통합과 질서를 유지시키는 고유문화를 갖고 있어 각각의 문화를 하나의 통합체로 간주한다.

- ① ㄱ, ㄴ ② ㄴ, ㄷ ③ ㄷ, ㄹ
 ④ ㄱ, ㄴ, ㄹ ⑤ ㄱ, ㄷ, ㄹ

30. 다음 글에서 (A) 학자의 주장으로 옳은 것을 <보기>에서 고른 것은?

사회이론가들은 사회변동이 일어나는 원인과 과정, 그리고 그 형태에 대한 논리적인 분석을 하려는 공통의 연구목적 갖고 있다. 이른바 사회에 관한 과학적 분석이 그것이다. 그리고 이들은 미래사회는 어떠한 사회가 될 것이라는 전망을 제시하기도 한다. 이러한 의미에서 사회이론가들의 사회변동론은 진보성을 지닌 일종의 목적론적 경향을 지니고 있다. 이러한 연구의도 및 사회변동의 목적론적 경향은 (A)의 이론에서도 잘 나타난다. (A)에 따르면, 사회변동을 추동하는 가장 근본적인 힘은 당대 사회에 가장 영향력이 크고 지배적인 사고 및 문화 체계들의 진전과정이다. 또한 (A)는 사회구조뿐만 아니라 도덕, 예법, 관습들도 전통적인 과학이 사물이나 현상을 탐구하는 방법과 동일하게 연구될 수 있다고 보았다. 여기서 (A)가 말하는 과학은 자연과학을 의미한다. (A)는 자연과학적 방법을 원용하여 사회에 대한 과학적인 이론이 정립되면 경험세계 사건들을 개선하는데 매우 유용하게 활용될 수 있을 것으로 전망하였다.

—<보 기>—

- ㄱ. A의 사회이론을 사회행태주의라 부른다.
- ㄴ. A는 '사회적 사실'의 영향력들에 대해 많은 관심을 가졌다.
- ㄷ. A에 의하면 사회발전의 과정은 '주술로부터의 해방과정'이다.
- ㄹ. A는 사회발전과정을 분석하기 위해 비교의 방법을 사용하였다.

- ① ㄱ, ㄴ ② ㄱ, ㄷ ③ ㄴ, ㄷ ④ ㄴ, ㄹ ⑤ ㄷ, ㄹ

31. 다음 제시문에 부합하는 추론으로 적절한 것만을 <보기>에서 모두 고른 것은?

- 예술적 취향과 지적 능력이 뛰어난 부모는 자녀교육에서 학업성취 지향적인 성향이나 전인교육 지향적인 성향이 높게 나타나며, 이것이 학교교육과정을 통해 지속되면서 개인들은 부모의 사회계급과 유사한 계급 위치로 배치된다.
- 부모의 취향은 자녀의 의생활에서 스타일 지향성과 식생활에서 건강식 지향성 등에 영향을 미치며, 부모가 예술적 취향과 인지적 능력을 갖춘 경우 그 자녀는 소비 대상의 상징적 가치를 중시하는 품격 지향적 소비 성향을 띠는 경향이 있다.

—<보 기>—

- ㄱ. 학교교육에 의해 길러지는 성향은 문화 획득을 위한 충분조건이 아니라 필요조건일 뿐이다.
- ㄴ. 상품 소비에서 상징 가치가 중요해지면서 소비 행위는 개인의 정체성을 표현하는 것이 되기 때문에 계급 간 생활양식의 차이가 완화된다.
- ㄷ. 가구, 의복, 요리처럼 일상생활에서 이루어지는 소비양식과 밀접하게 연관되어 있는 개인들의 취향은 일차적 사회화과정의 영향을 분명하게 드러내준다.
- ㄹ. 부모가 문화적 소양을 갖추지 않았더라도 자녀는 학교교육을 통해 이를 습득할 수 있기 때문에 부모와 자녀의 문화적 소양 수준이 서로 일치하지 않게 된다.

- ① ㄱ, ㄴ ② ㄱ, ㄷ ③ ㄷ, ㄹ
 ④ ㄱ, ㄷ, ㄹ ⑤ ㄴ, ㄷ, ㄹ

32. 다음은 신사회운동에 관한 내용이다. 밑줄 친 부분에 대한 설명으로 옳은 것을 <보기>에서 고른 것은? [1.5점]

서구사회의 경우, 전통적인 사회운동들은 산업사회의 출현과 함께 등장하였다. 이러한 배경 하에서 최초로 등장한 사회운동에서 대표적인 것이 노동운동이었다. 근대사회의 또 다른 이름인 자본주의사회 하의 노동운동은 자본 대 노동 간의 계급적 대립으로 설명할 수 있다. 그러나 복지국가의 성장 등으로 인해 이러한 대립은 완화되었다. 반면, 새로운 사회문제들이 출현하게 되었다. 환경문제, 반전-평화문제, 지역사회문제, 여성문제, 소수자문제, 다문화사회의 문제, 그리고 권력 집중의 문제 등이 그것이다. 이러한 것들은 사회갈등의 쟁점이 노동-생산의 영역에서 사회-문화적 재생산 영역으로 확대되면서 발생한 것들이다. 이 결과 사회구조의 변화에 적절하게 대처하지 못한 기존의 전통적인 사회운동은 약화되고, 새롭고 다양한 사회운동들이 부상하게 되었다. 이를 신사회운동이라 한다.

—<보 기>—

- ㄱ. 신사회운동의 이념적 지향은 신자유주의이다.
- ㄴ. 신사회운동은 일국적 관점을 넘어 세계화되어가고 있다.
- ㄷ. 신사회운동의 영역은 사적이며 개인적인 영역이기 때문에 보호되어야 한다.
- ㄹ. 비정부기구, 비영리단체, 시민사회조직, 제3섹터 등은 신사회운동의 주체 및 영역이다.

- ① ㄱ, ㄴ ② ㄱ, ㄷ ③ ㄴ, ㄷ ④ ㄴ, ㄹ ⑤ ㄷ, ㄹ

33. 다음 (가), (나)에 나타난 사회학의 이론적 관점에 대한 설명으로 적절하지 않은 것은?

- (가) 한 사회가 감당하기 어려울 정도로 사회성원들을 많이 재생산한다면 그 사회는 식량, 주택 등의 다양한 사회문제에 시달릴 것이다. 반대로 한 사회가 생존하기 어려울 정도로 사회성원들을 적게 재생산한다면 그것은 더욱 중요한 사회문제가 될 것이다. 지나친 저출산으로 인하여 한 사회의 인구가 줄어들거나 성비 불균형으로 인하여 결혼파동이 온다면 그 사회의 적절한 성장과 사회성원들의 재생산은 방해받을 것이다.
- (나) 식량이라는 것은 중요한 희소자원의 하나다. 아프리카의 후진국에서 나타나는 기아와 이로 인한 사망은 후진국이 선진국과의 희소자원을 둘러싼 경쟁에서 패하였기 때문에 나타나는 것이다. 실제로 지난 100여 년 동안 1인당 곡물생산은 지속적으로 증가해왔지만, 아프리카의 기아 문제는 해결되지 않았다. 선진국이 생산하는 곡물의 3~5%만 이러한 나라들에 재분배하면 기아로 사망하는 사람을 없앨 수 있다.

- ① (가)는 사회의 규모에 따라 적정 인구 상태를 유지하려고 노력하지 않았기 때문에 인구문제가 발생한다고 본다.
- ② (가)는 사회의 요구에 부응하여 사회성원들을 문화적으로 통제하고 재사회화해야 인구문제가 해결될 것으로 본다.
- ③ (나)는 한정된 자원의 배분을 둘러싼 갈등과 불평등을 해소해야 인구문제가 해결될 것으로 본다.
- ④ (나)는 아프리카에서 발생하는 갈등과 사회적 관계를 이해해야 인구문제를 적절하게 설명할 수 있다고 본다.
- ⑤ (나)는 사회제도나 사회구조의 개혁이 인간사회에서 기아와 전쟁으로 인한 인구문제를 해결할 수 없다고 본다.

34. 다음 (가), (나)는 문화변동을 바라보는 인류학의 이론적 관점을 나타낸 글이다. 이에 대한 설명으로 적절하지 않은 것은? [2.5점]

(가) 인간의 문화는 독특한 상징행동에 기초하기 때문에 누적적으로 발전해나갈 수 있다. 사회 발달 단계는 기술체계에 의해 결정되며, 기술이 발달하여 더 많은 에너지를 이용하는 사회가 더 발전한 사회이다. 문화적 발전이 새로운 요소를 받아들일 수 있는 시점에 이르기 전에는 결코 발명이나 혁신과 같은 문화 변동은 나타나지 않으며, 그러한 시점에 도달하였다고 하더라도 새로운 문화 요소는 개인의 욕구와는 무관하게 출현하고, 특성의 개인들과는 독립적으로 진행되는 문화 자체의 본성이고 문화의 독자적인 과정이다.

(나) 비슷한 환경에서 비슷한 적응을 하는 문화에서는 공통적인 규칙성이 나타나지만, 서로 다른 환경에서 서로 다른 적응방법을 모색해 온 문화는 그 문화에 가장 적합한 변동의 길을 택한다. 사회의 적응과 발전에서 기술적 요소와 같은 사회문화체계의 핵심 영역의 양상이 중요하며, 어떤 기술이 채택되는가는 사회문화체계의 형태에 달려 있다. 사회문화체계의 핵심 영역의 양상이 유사한 문화들은 동일한 문화유형에 속하며 유사한 환경에 대하여 일반적으로 동일한 반응을 나타낸다.

- ① (가)는 자연환경에 대한 통제 능력의 향상과 생활 안정성의 증대를 문화적 발전으로 보았다.
- ② (나)는 문화생태학의 입장에서 문화변동을 설명하였다.
- ③ (나)는 모든 문화에 적용되는 공통된 문화변동의 규칙을 찾기보다 문화변동 양상의 다양성에 더 관심을 두었다.
- ④ (가)와 (나) 모두 문화의 보편적인 발전 단계를 가정하였으나, (나)는 (가)에 비해 기술과 환경의 관계 탐구에 더 중점을 두었다.
- ⑤ (가)와 (나) 모두 문화변동의 구조적 유사점에 관심을 가졌으나, (가)는 (나)에 비해 문화변동의 일반 법칙을 정립하는 데 더 주력하였다.

35. 법의 적용은 일반적으로 다음과 같은 삼단논법으로 이루어진다. (나) 단계에 해당되는 사실확정 행위의 사례 중 합법적으로 처리된 경우를 <보기>에서 고른 것은?

- (가) 대전제: 추상적인 법규의 존재
- (나) 소전제: 구체적으로 발생한 사실(사실의 확정)
- (다) 결론: 판결(법률적인 판단)

—<보 기>—

- ㄱ. 승용차의 추락 사고로 타고 있던 일가족 4명 중 2명이 현장에서 사망하였다. 담당 공무원은 그 2명을 같은 시각에 사망한 것으로 처리하였다.
- ㄴ. 2000년 1월 5일 집을 나가 그해 2월 5일 가출 신고된 남편 A씨를 기다리던 부인 B씨는, 2008년 2월 5일 남편 A씨의 실종선고를 받아, 이를 신고하였더니 담당 공무원은 실종선고 서류가 접수된 날에 A씨가 사망한 것으로 처리하였다.
- ㄷ. 김씨와 박씨가 함께 투숙하였던 호텔에 대형 화재가 발생하였다. 진화 후 김씨의 시신은 수습되었으나 박씨의 시신은 끝내 찾지 못하여, 죽은 것이 확실시된다는 관공서의 보고서를 제출하였더니, 담당 공무원은 박씨를 사망한 것으로 처리하였다.
- ㄹ. 갑은 자신이 살아 있음에도 실종선고로 인하여 사망으로 처리된 사실을 알고 담당 공무원을 찾아가 주민등록증을 제시하면서, 자신이 실종선고로 사망 처리된 당사자임을 밝히고 생존 사실을 주장하자, 담당 공무원은 갑의 진술을 다 들은 후 갑의 사망 처리를 취소하였다.

- ① ㄱ, ㄴ ② ㄱ, ㄷ ③ ㄴ, ㄷ ④ ㄴ, ㄹ ⑤ ㄷ, ㄹ

36. 다음은 각각 국민의 기본권에 대한 설명이다. 이에 대한 설명으로 옳은 것은?(다툼이 있는 경우에는 판례에 의함.) [2.5점]

- (가) 모든 국민이 여러 생활 영역에서 균등한 기회를 보장 받을 권리이다.
- (나) 모든 국민이 그의 자유 영역에 대해서 국가권력으로부터 침해받지 않을 소극적인 권리이다.
- (다) 모든 국민이 인간다운 생존을 누리기 위해서 국가의 배려, 시책, 봉사 등을 요구할 수 있는 적극적인 성질을 갖는 권리이다.
- (라) 국민이 적극적으로 국가에 대하여 특정한 행위를 요구하거나 국가의 보호를 요청할 수 있는 권리이다.
- (마) 모든 국민이 정당 설립, 선거, 공무 담임, 국민투표 등을 통하여 국가권력의 창설과 국가의 권력 행사 과정에 적극적으로 참여함으로써 자신의 정치 소견을 국정에 반영할 수 있는 권리이다.

- ① 독립유공자와 그 유족에게 서훈의 등급에 따라 부가 연금을 차등 지급하는 것은 (가)를 침해한 것이다.
- ② (나)의 본질적 침해에 해당되는 것으로 수형자의 서신 검열로 인하여 수형자들의 통신의 비밀이 침해되는 사례를 들 수 있다.
- ③ 초·중·고 분교를 통폐합하는 지방자치단체의 조례에 의해서 학생들의 통학조건이 나빠지는 등 불편이 따른다면 그것이 법률에 근거한 조례의 제정이라도 (다)를 침해하는 것이다.
- ④ 평화유지군으로 아프가니스탄에 파견된 부대원이 직무집행과 관련하여 부상한 경우 국가배상청구권을 인정하는 것은 (라)의 보장에 해당된다.
- ⑤ 주민투표권은 (마)와 관련이 있지만, 헌법이 보장하는 기본권 또는 헌법상 보장되는 주관적 공권으로 볼 수는 없다.

37. 다음은 A와 B의 법적 성질에 대한 설명이다. 이에 대한 설명으로 옳은 것을 <보기>에서 고른 것은?

- A은/는 법률 또는 관습법에 의하는 외에는 임의로 창설하지 못한다. 또한 A은/는 하나의 독립한 물건으로서 서로 상용(相容)할 수 없는 복수의 A가 존재할 수 없는 성질을 지닌다.
- 이에 반해, B은/는 신의성실의 원칙에 따라 당사자 간 특약으로 채권자가 채무자에게 청구할 수 있는 상대적 성질을 지닌다. 따라서 B은/는 A와 달리 공시할 필요가 없으며, 변제함으로써 급부가 실현되는 특징을 가지고 있다.

—<보 기>—

- ㄱ. B은/는 일반적으로 A에 우선한다.
- ㄴ. A의 성질은 배타성을 지니지만, B의 성질은 배타성이 인정되지 않는다.
- ㄷ. B은/는 성질상 양도성이 당연히 인정되지만, A은/는 원칙적으로 양도성이 없으나 예외적으로 법률규정에 의해 인정되고 있다.
- ㄹ. B의 목적물은 B가 성립할 당시 확정되어 있을 필요는 없으나, A의 목적물은 반드시 현존·특정되어야 하는 성질을 지닌다.

- ① ㄱ, ㄴ ② ㄱ, ㄷ ③ ㄴ, ㄷ ④ ㄴ, ㄹ ⑤ ㄷ, ㄹ

38. 다음은 「범죄의 성립요건 3요소」를 설명한 것이다. 각 요소에 부합하는 사례 중 알맞은 것을 <보기>에서 고른 것은?

범죄란 「범죄의 구성요건에 해당하는 위법하고 유책한 행위」를 말한다. 즉, 범죄가 성립하기 위해서는 구성요건해당성과 위법성 그리고 책임성이 있어야 한다. (가) 구성요건해당성은 구체적인 사실이 법규상 특정한 범죄 형태로서 기술되어 있는 요소에 일치하는 것이고, (나) 위법성은 법의 당위요구에 반하는 행위에 부정적 가치판단이며, (다) 책임성은 당해 행위를 한 행위자에 대한 비난 가능성을 의미한다.

—<보 기>—

- ㄱ. 갑은 을로부터 어린 딸의 생명에 대한 위해(危害)를 피할 수 없는 협박을 받아 회사의 기밀문서를 절취한 경우, (다)를 조각하는 「강요된 행위」로서 무죄이다.
- ㄴ. 갑이 을 소유의 자동차를 절취하여 을의 친구인 병을 그 차에 감금시키자 병이 그 차의 창문을 부수고 탈출한 경우, 병의 자동차 창문 손괴행위는 (나)를 조각하는 「정당방위」로서 무죄이다.
- ㄷ. 갑은 을을 살해할 의사로 음료수에 치사량의 독약을 혼합하면서 만일 을이 아닌 가족이 마시게 되더라도 할 수 없다고 생각하고 있었던 바, 을의 장남이 마시고 사망한 경우, (가)에 해당하는 「미필적 고의」에 의한 살인죄이다.
- ㄹ. 갑 교사는 체벌이 교육상 필요가 있었고 다른 교육적 수단으로는 교정이 도저히 불가능하여 불가피하게 체벌을 하였다. 그 체벌의 방법과 정도가 사회관념상 비난받지 아니할 객관적 타당성을 확보하였다면, (나)를 조각하는 「피해자의 승낙」으로 무죄이다.

- ① ㄱ, ㄴ ② ㄱ, ㄷ ③ ㄴ, ㄷ ④ ㄴ, ㄹ ⑤ ㄷ, ㄹ

39. 다음은 이혼 후의 자녀양육권과 이혼 시 재산분할청구권에 관한 설명이다. 양 제도에서 파생되는 법률문제 중 옳은 것을 <보기>에서 고른 것은?

- 자녀양육권에 대하여 이혼 시 당사자는 그 자녀의 양육자 결정, 양육비용 부담 등을 협의에 의하여 정한다. 양육에 따른 협의가 이루어지지 않거나 협의할 수 없는 때에는 가정법원은 직권 또는 당사자의 청구에 따라 결정한다. 한편, 자녀를 직접 양육하지 않는 부모의 일방과 자녀는 상호 면접교섭권을 가진다.
- 이혼한 일방은 다른 일방에 대하여 재산분할청구권을 행사할 수 있다. 이혼한 당사자가 재산분할에 협의가 되지 않거나 협의할 수 없는 때에는 가정법원이 분할의 액수와 방법을 정한다. 또한, 가정법원은 재산분할청구권의 구체적인 범위를 정할 때에 재산분할청구권이 이혼 후의 부양의 성질을 갖는 것이기 때문에 당사자의 자립가능성도 고려하여 판단한다.

—<보 기>—

- ㄱ. 협의 이혼 시 재산분할의 청구를 할 수 없다.
- ㄴ. 유책배우자도 재산분할청구권을 행사할 수 있다.
- ㄷ. 양육에 관한 사항 외에는 부모의 권리의무 자체에는 변함이 없다.
- ㄹ. 자녀의 양육권 변경에 관하여 당사자 간의 협의를 거치지 아니한 상태에서 부모 중 다른 일방만의 청구에 의한 법원의 심판은 무효이다.

- ① ㄱ, ㄴ ② ㄱ, ㄷ ③ ㄴ, ㄷ ④ ㄴ, ㄹ ⑤ ㄷ, ㄹ

40. 다음은 근로자의 권리 및 의무와 관련된 「근로기준법」의 기본 원칙을 일부 발췌한 내용이다. 근로자의 정당한 권리에 관한 사례 중 옳은 것을 <보기>에서 고른 것은? [1.5점]

- 근로조건은 최저 기준이므로 근로관계 당사자는 이 기준을 이유로 근로조건을 낮출 수 없다.
- 근로조건은 근로자와 사용자가 동등한 지위에서 자유의사에 따라 결정해야 한다.
- 근로자와 사용자는 각자가 단체협약, 취업규칙과 근로계약을 지키고 성실하게 이행할 의무가 있다.
- 누구든지 법률에 따르지 아니하고는 영리로 다른 사람의 취업에 개입하거나 중간인으로서 이익을 취득하지 못한다.

—<보 기>—

- ㄱ. 갑은 미성년자로서 음식점의 배달원으로 고용되어 근로하였으나 10개월분 임금을 받지 못하고 있다. 갑은 미성년자이기 때문에 임금청구소송은 직접 할 수 없으므로 법정 대리인이 한다.
- ㄴ. A사는 근로자 집단의 동의 없이 경영효율성 제고를 위해 호봉제와 연봉제로 이원화된 임금체계를 연봉제 임금체제로 일원화하였다. A사의 근로자인 갑은 줄지에 호봉제에서 연봉제로 전환한 취업규칙 변경은 무효라고 주장하고 있다.
- ㄷ. A학원에서 10년간 사회과목 강사로 근무했던 갑은 1년 단위로 매년 2월 1일 반복 체결해 왔던 근로계약갱신을 예고도 없이 갑자기 거절당하자, 퇴직금과 해고예고 수당을 청구하였다. A학원 측은 퇴직금과 30일분 이상의 통상 임금을 해고예고 수당으로 지급해야 한다.
- ㄹ. 갑은 28세 여성 종업원으로서 근로계약 시 “향후 1년 미만의 유아(乳兒)를 가질 경우라도 1일 1회에 한하여 30분만 유급 수유시간을 준다.”고 하였기 때문에 이후, 유아(乳兒)가 있어도 근로기준법상 1일 2회 각각 30분임에도 불구하고, 갑은 어쩔 수 없이 근로계약에 따라야 한다.

- ① ㄱ, ㄴ ② ㄱ, ㄷ ③ ㄴ, ㄷ ④ ㄴ, ㄹ ⑤ ㄷ, ㄹ

- 수 고 하 셴 습 니 다 -