

수험번호 : (

)

성 명 : (

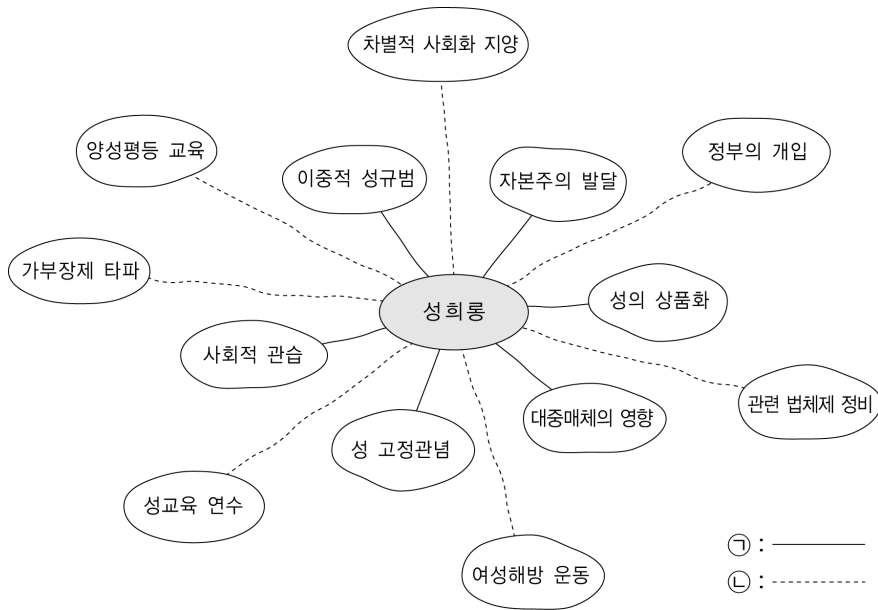
)

3. 정 교사는 (가)와 같은 ‘성희롱’ 사례로 개념 학습을 진행한 뒤 평가를 위해 학생에게 개념도를 그리게 하였다. (가)의 밑줄 친 ‘이 모형’에서 이루어진 개념 학습의 절차를 적고, (나)의 개념도에서 ㉠과 ㉡은 각각 개념 간의 어떤 관계를 보여주는지 쓰시오. [4점]

(가) 정 교사가 적용한 개념 학습 사례

한국에서 ‘술을 따르는 행위’와 ‘성희롱’의 관련성에 대한 해석은 맥락에 따라 달라진다. ‘성희롱’과 관련하여 볼 때, 과거 조선 시대에 여성이 술을 따를 때는 성희롱이 되지 않았다. 과거에는 이 개념이 제대로 형성되어 있지 않았기 때문이다. 반면에 오늘날에는 상황에 따라 성희롱이 되는 경우가 종종 발생한다. 여성이 스스로 술을 따르면 성희롱이 되지 않는 경우가 많다. 그러나 직장 상사의 강요로 여성이 술을 따르게 될 경우 성희롱이 되기도 한다. 이처럼 ‘성희롱’이 역사적 맥락과 상황의 영향을 많이 받게 되는 특성을 고려하여, 정 교사는 개념 학습 모형 중 이 모형을 적용하여 ‘성희롱’의 개념을 가르쳤다.

(나) 학생이 작성한 ‘성희롱’의 개념도 사례



• 개념 학습의 절차: _____

• 개념 간의 관계: ㉠ _____

㉡ _____

㉠ : _____

㉡ : _____

4. 김 교사는 (가)의 학습 자료와 관련하여 (나)와 같은 질문을 구성하였다. 이러한 질문이 블룸(Bloom)의 학습 목표 분류에 의하면 각각 어느 영역에 해당되는지 적고, 위계가 낮은 질문부터 높은 질문순으로 번호를 쓰시오. [4점]

(가)

- 뉴기니의 산에 사는 아라페쉬인들은 나름의 결혼 문화를 갖고 있다. 아라페쉬 소년은 자신의 아내를 키운다. 어린 소녀는 예닐곱 살경에 여섯 살가량 연상의 소년과 약혼하여 그 집에서 살게 된다. 그러면 시부모와 그 형제들이 협력하여 어린 신부를 먹이고 기른다. 나중에 이것은 남편이 아내에게 권리를 요구할 수 있는 근거가 된다.
- 카리브 해안 동부의 아나마트 마을에서 결혼은 남성이 여성을 집으로 데려와 함께 살 때 성립한다. 한쪽이 집을 떠나는 것으로 결혼 관계는 끝난다. 이 마을에서는 법률혼과 사실혼을 구별한다는 생각이 별로 없다. 결혼을 하려면 남성은 여성을 데려올 공간과 경제 능력을 갖추어야 하며, 여성의 동의를 얻어야 한다. 이 때 여성은 요리와 집안 청소 등의 서비스를 제공한다.

(나)

- ① 두 마을의 결혼 문화에 들어있는 사실적인 요소와 가치관련 요소를 찾아서 제시하시오.
- ② 각자 기준을 설정하여 두 마을의 결혼 문화에 대해 가치판단을 해 보시오.
- ③ 두 마을의 결혼 문화를 비교하고 공통점을 자신의 언어로 설명해 보시오.
- ④ 두 마을의 결혼 문화에서 나타난 문제점을 고치기 위한 개선 방안을 제시하시오.

• 영역: ① _____, ② _____, ③ _____, ④ _____

• 위계가 낮은 질문부터 높은 질문의 번호 순서: () - () - () - ()

수험번호 : (

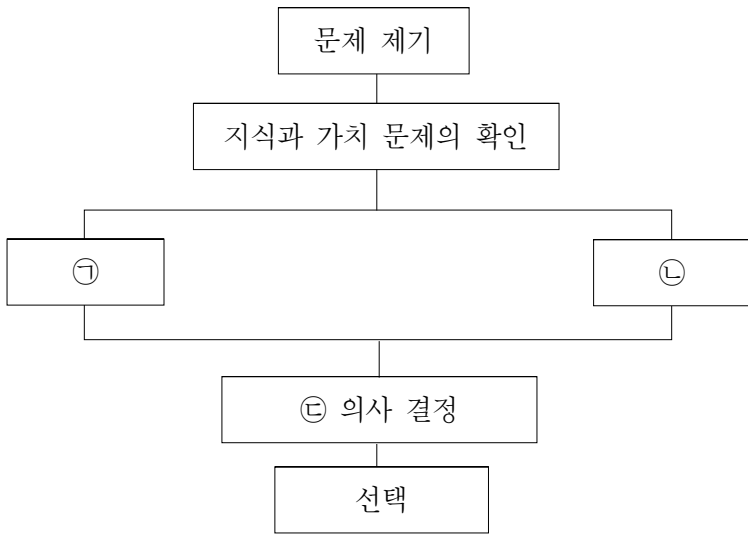
)

성명 : (

)

5. 박 교사는 인지적 영역을 탐구하는 ㉠과정과 정의적 영역을 탐구하는 ㉡과정을 종합하여 의사결정을 내리는 ‘뱅크스(Banks)의 의사결정 수업 모형’을 적용한 수업을 하였다. 박 교사는 ‘학생이 ㉢단계에서 주요하게 고려해야 하는 요소’를 평가 기준으로 설정하여 (나)와 같은 평가표를 작성하였다. (가)의 ㉠과 ㉡에 들어갈 용어를 적고, (나)를 활용한 평가 방법과 ①, ②에 적절한 평가 기준 2가지를 문장으로 쓰시오. [4점]

(가) 뱅크스(Banks)의 의사결정 수업 모형



(나) 평가표

의사 결정 과정의 평가 기준	매우 잘함	잘함	보통	부족함	매우 부족함
①					
②					

- ㉠: _____, ㉡: _____
- 평가 방법: _____
- 평가 기준: ① _____
- ② _____

6. (가)는 2007년 7월 시행된 인터넷 실명제를 둘러싼 찬반 논쟁이며, (나)는 이 논쟁을 올리버와 셰이버(Oliver & Shaver)의 ‘법리모형(Jurisprudential Model)’을 적용하여 분석한 것이다. (나)의 ㉠과 ㉡에 들어갈 알맞은 내용을 쓰시오. [4점]

(가) 인터넷 실명제에 대한 찬반 입장

찬성	반대
<p>현재 시행되고 있는 본인확인제도는 본인확인 의무를 가지지 않는 형식적인 절차에 불과하기 때문에 제대로 된 인터넷 실명제로 보기 어렵다.</p> <p>이번에 도입할 인터넷 실명제는 사이버 범죄를 방지하는 데 큰 역할을 할 것이 틀림없다. 제대로 된 인터넷 실명제를 실시하는 포털 사이트의 악성 댓글이 다른 사이트에 비해 현저하게 적다는 분석결과도 있다.</p> <p>표현의 자유는 무제한의 권리가 아니다. 표현의 자유는 타인의 명예나 권리를 침해하지 않는 범위 내에서 허용될 뿐이다.</p>	<p>인터넷 실명제가 시행되지 않고 있다는 것은 오해다. 대형 포털 사이트는 이미 가입 단계에서 일종의 실명제인 본인확인제도를 시행하고 있다. 언론사나 정부기관 등 상당수 사이트의 게시판도 실명 확인 없이는 글을 쓸 수 없다.</p> <p>또한, 정부가 도입하려는 인터넷 실명제는 지금까지의 경험에 비추어 볼 때 효과적인 예방 수단이 되기는 어려울 것이다.</p> <p>결국 인터넷 실명제는 개인들의 자유로운 인터넷 사용을 침해하는 결과를 가져올 것이다.</p>

(나) 인터넷 실명제에 대한 논쟁 분석틀

논점(쟁점)	쟁점 해결 단계
인터넷 실명제란 무엇인가?	㉠
㉡	사실의 경험적 확인
사회질서가 중요한가? 개인의 권리가 중요한가?	가치 갈등의 해결

- ㉠: _____
- ㉡: _____

수험번호 : (

)

성 명 : (

)

7. 헌법재판소는 ‘공직선거 및 선거부정방지법’에 규정된 비례대표 국회의원 의석배분방식과 1인 1표제에 대해 (가)와 같은 취지로 위헌결정을 내렸다. (나)의 ㉠과 ㉡이 선거의 기본원칙 중 각각 어떤 원칙에 위배되는지 적고, ㉢이 침해하는 권리의 구체적 내용을 쓰시오. [3점]

(가) “이러한 비례대표제 방식에 의하면, 유권자가 지역구 후보자나 그가 속한 정당 중 어느 한쪽만을 지지할 경우 지역구 후보자를 기준으로 투표하던 정당을 기준으로 투표하던 어느 경우에도 자신의 진정한 의사는 반영시킬 수 없으며, 후보자든 정당이든 절반의 선택권을 박탈당할 수밖에 없을 뿐만 아니라, 신생정당에 대한 국민의 지지도가 제대로 반영할 수 없어 기존의 세력정당에 대한 국민의 실제 지지도가 초과하여 그 세력정당에 의석을 배분하여 주게 되는데, 이는 …(중략)… 민주주의 원리에 부합하지 않는다.”
- 헌재 2001. 7. 19, 2000헌마91 -

(나) 당시의 선거법 중 1인 1표제 관련 내용과 그에 대한 비판

- ㉠ 정당명부에 대한 별도의 투표가 있어야 하는데도 별도의 정당투표가 없다.
- ㉡ 무소속 후보자에 대한 투표가 비례대표 의원 선출에 전혀 기여하지 못한다.
- ㉢ 유권자가 지지하는 후보자와 정당이 다를 경우 어느 한쪽에 대한 지지를 포기하게 만든다.

- ㉠ : _____
- ㉡ : _____
- ㉢이 침해하는 권리 : _____

8. ㉠, ㉡에 알맞은 용어를 적고, ㉢의 구체적인 내용을 쓰시오. [4점]

- 마라톤의 승리 2년 뒤에 민중이 쫓겨하여 처음으로 ‘도편추방제’를 실시하였다. 그리고 바로 그 다음해 테레시노스 아르콘(참주) 때에는 데모스 사람들에 의해 예비 선출된 500명 중에서 각 부족별로 9명의 아르콘이 (㉠) (을)를 통해 선출되었다. 이와 같은 제도는 참주제 실시 이후에 처음으로 이루어진 것이며, 그 이전에는 제한된 계층만이 아르콘으로 선출될 수 있었다.
- 소크라테스는 민주정치의 나쁜 점을 거리낌 없이 폭로하고 특히 관리 선출 방식에 반대하면서 다음과 같은 주장을 하였다. “아들의 마술(馬術) 선생을 정하려는 아버지도 가능한 한 실력이 뛰어난 사람을 찾는데, 하물며 나라의 운명을 맡기는 관리를 ㉡(으)로 뽑고도 태연한 것은 우스운 일이다.”
- “민주화의 과정에서 독재자가 사라지면 대중 지배의 시대가 등장합니다. 이 경우 대중의 지배는 점차 선동적으로 변해갑니다. 포퓰리즘(populism)이 지배적인 정치적 현상이 되면 민주주의는 (㉢)의 형태로 타락하게 되고 결국에는 무정부 상태가 됩니다. 아리스토텔레스도 민주주의의 이러한 문제점을 인식하고 이에 대한 ㉣해결 방안을 제시한 바 있습니다.”

- ㉠ : _____
- ㉡ : _____
- ㉢ 해결방안 : _____

수험번호 : () 성 명 : ()

9. (가)는 국가와 시장 간의 관계, 성장과 재분배 간의 관계를 네 개의 정치경제 모형으로 단순화한 것이다. ㉠과 ㉡에 해당하는 모형을 쓰고, (나)에서 ㉠과 ㉡의 특징에 해당하는 번호를 3개씩 쓰시오. [4점]

(나) 특징

(가) 정치경제 모형

		자원배분과 조정의 주체	
		국가	시장
정책	성장	㉠	㉡
우선순위	재분배	사회주의 모형	사회민주주의 모형

- ① 효율적, 독립적, 자율적인 관료 조직이 정책을 주도한다.
- ② 유치산업을 보호하고 성장산업을 지원하는 정책을 쓴다.
- ③ 산업국유화에 반대하고 복지 수단을 강조한다.
- ④ 개인의 자유를 강조하고, 공공지출과 복지정책을 축소한다.
- ⑤ 혁명을 통해 노동계급의 목적 달성이 가능하다고 생각한다.
- ⑥ 신중상주의와 보호주의적 무역정책을 추진한다.
- ⑦ 자유시장경제가 효율성, 성장, 번영을 가져다 준다고 믿는다.
- ⑧ 탈규제, 공기업 민영화, 포괄적 세금인하정책을 시행한다.

• ㉠ : _____

• ㉡ : _____

• ㉠에 해당하는 번호 : _____, _____, _____

• ㉡에 해당하는 번호 : _____, _____, _____

10. 다음 ㉠개념을 2 줄 이내로 설명하고, ㉡에 적합한 용어를 쓰시오. [3점]

냉전 시기에 미·소 양국은 서로 간의 ㉠ '핵 억지력'을 통하여 불안정하지만 역설적인 국제평화를 유지한 경험이 있다. 그러나 미국의 부시 대통령이 현재 추진 중인 (㉡) (은)는 탄도탄우격 기술의 발전을 통해 적의 핵전력을 무기력화함으로써 미국의 핵전력 우위를 추진하는 것이다. 이러한 미국의 핵 전략을 구성주의자들의 주장에 비추어 보면, 미국이 객관적인 물질 자원보다는 공유된 지식에 의해 핵전략을 추진한다고 해석할 수 있다.

• ㉠ : _____

• ㉡ : _____

11. 다음을 읽고 '달러화에 대한 원화의 환율'과 '빅맥지수'가 얼마인지를 도출하고, 이를 근거로 현재의 환율이 원화의 실제 구매력을 어떻게 평가하고 있는지 쓰시오. (단, 환율에서 매도율과 매입률의 차이는 없다고 가정한다.) [3점]

김 씨는 미국의 공항에서 3달러짜리 빅맥 햄버거를 사먹으려다 탑승시간에 쫓겨 그냥 비행기에 올랐다. 한국의 공항에 도착해서 배가 고프 김 씨는 수중에 남아 있는 3달러를 은행에서 환전한 돈 2,700원을 가지고 식당을 찾다가, 미국에 있던 것과 똑같은 빅맥 햄버거를 팔고 있는 가게를 발견하였다. 메뉴를 보니 한국에서 빅맥 햄버거의 가격은 3,000원이었다.

• 환율 : _____

• 빅맥지수 : _____

• 원화의 구매력에 대한 평가 : _____

수험번호 : (

)

성 명 : (

)

12. ㉠과 ㉡에 나타난 개념에 해당하는 부분을 그래프상의 기호로 표시하고, 철수가 동호의 '㉡제의를 받아들일 때의 헬스 이용빈도'와 '공짜로 회원 대우를 받을 때의 이용빈도'를 나타내는 그래프상의 구간을 기호로 쓰시오. [4점]

철수는 친구인 동호가 대규모 헬스장을 개업했다는 말을 듣고 찾아갔다. 동호의 헬스장은 가입비를 납부한 회원에게는 회원 요금을, 회원이 아닌 사람에게는 그보다 비싼 일반 요금을 받고 있었다.

철수 : 동호야, 개업을 축하한다. 그런데 회원 가입비는 얼마나냐? 그리고 회원 요금은 얼마나 받니?

동호 : 회원 가입비는 백만 원인데, 회원은 일반 요금의 3분의 1만 내면 돼. 왜, 너도 회원 가입하게?

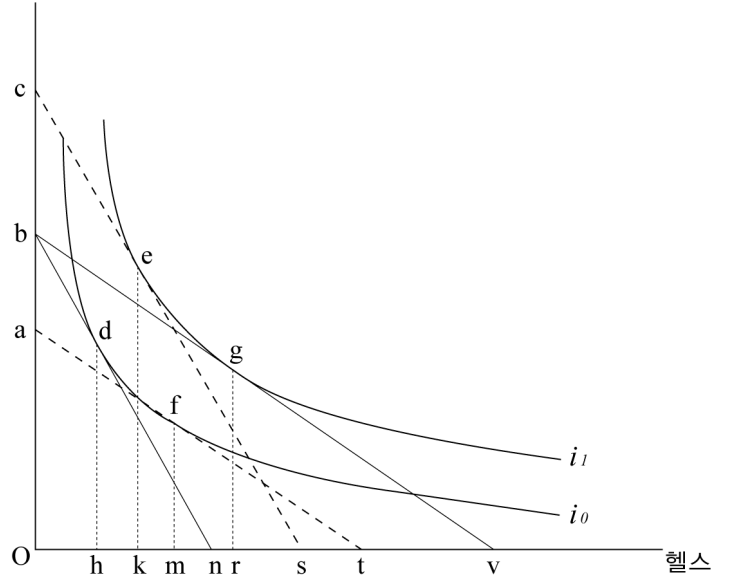
철수 : 가입비가 좀 비싸다. 나한테는 싸게 해줄 수 없니?

동호 : 그래? ㉠그럼 네가 회원 가입비로 최대 얼마까지 낼 용의가 있는지 정직하게 말해 봐.

철수 : 그 걸 말하자니 좀 그렇다. 나한테는 회원 가입비 없이 그냥 회원 요금만 받으면 안 되겠니?

동호 : 그래도 그렇지. 회원도 아니면서 회원 요금을 내면 직원들이 뭐라 그러겠어? 대신 ㉡내가 너한테 얼마를 보조해 줄테니까, 헬스장에 와서는 그냥 일반 요금 내고 이용해라. 얼마면 회원 대우해주는 셈이 되겠니?

다른 모든 상품(원)



주) 선분 bn : 일반 요금을 나타내는 예산선
선분 bv : 회원 요금을 나타내는 예산선
i : 무차별곡선
선분 bv와 at는 평행, 선분 bn과 cs는 평행

- ㉠ : _____
- ㉡ : _____
- ㉡제의를 받아들일 때의 이용빈도 : _____
- 공짜로 회원 대우를 받을 때의 이용빈도 : _____

13. 경수는 신문 기사 (가)를 읽고 (나)와 같은 이론적 결과를 추론하였다. ㉠, ㉡에 들어갈 적합한 용어를 쓰고, ㉢에 적절한 내용을 쓰시오. [3점]

(가)

(나)

A제철은 준공 후 계속 놀리고 있는 강관 생산시설을 조만간 가동하기로 했다. 회사측 관계자는, “이 시설을 놀리면 한 달에 10억 원의 손실이 발생하지만, 가동하면 손실을 3억 원으로 줄일 수 있다.”라고 설명했다. A제철이 생산하는 강관은 국내외적으로 경쟁시장을 형성하고 있다.

현재 강관의 시장가격은 A제철의 강관 생산수준에서의 (㉠) 비용보다는 높지만, (㉡) 비용보다는 낮은 수준에 있는 것으로 추정할 수 있다. 또한, 단기적으로 A제철의 공급곡선은 (_____) (으)로 나타난다.

- ㉠ : _____
- ㉡ : _____
- ㉢ : _____

수험번호 : () 성 명 : ()

14. (가)를 참고하여, (나)에 제시된 A국의 2006년 실질GNI 계산에 필요한 세 항목인 ‘교역조건의 변화를 반영한 명목무역손익’, ‘환가지수’, ‘교역조건이 불변일 때의 실질무역손익’의 값을 계산 과정과 함께 쓰시오. [4점]

(가)

명목국민총소득(명목GNI)은 명목국민총생산(명목GNP)과 동일하다. 하지만 실질GNI와 실질GNP는 동일하지 않으며, 양자 간에는 다음과 같은 관계가 성립한다.

$$\begin{aligned} \text{실질GNI} &= \text{실질GNP} + \text{교역조건의 변화에 따른 실질무역손익} \\ &= \text{실질GNP} + \text{교역조건의 변화를 반영한 실질무역손익} - \text{교역조건이 불변일 때의 실질무역손익} \\ &= \text{실질GNP} + \frac{\text{교역조건의 변화를 반영한 명목무역손익}}{\text{환가지수}} - \text{교역조건이 불변일 때의 실질무역손익} \end{aligned}$$

* 환가지수는 수출가격지수와 수입가격지수의 평균을 사용한다.

(나)

A국의 2005년 경상수지는 수출액과 수입액이 각각 100억 달러로 균형을 이루고 있었다. 그런데 2006년에는 기준년도인 2005년에 비해 수출입 상품의 가격만 변했을 뿐, 수출입 상품의 품목, 물량, 여타 수출입 여건 등에 아무런 변화가 없었다. 2006년에 수출품의 가격은 일률적으로 10% 하락한 반면, 수입품의 가격은 일률적으로 10% 상승했다.

- 교역조건의 변화를 반영한 명목무역손익 :
- 환가지수 :
- 교역조건이 불변일 때의 실질무역손익 :

15. 다음은 법률행위의 무효와 관련된 판례들이다. ㉠, ㉡, ㉢에 들어갈 용어나 내용을 쓰시오. [4점]

- 동일인에 대한 대출액한도를 제한한 법령이나 금융기관 내부규정의 적용을 회피하기 위하여 실질적인 주채무자가 실제 대출받고자 하는 채무액에 대하여 제3자를 형식상의 주채무자로 내세우고, 금융기관도 이를 양해하여 제3자에 대하여는 채무자로서의 책임을 지우지 않을 의도하에 제3자 명의로 대출관계서류를 작성 받은 경우, 제3자는 형식상의 명의만을 빌려 준 자에 불과하고 그 대출계약의 실질적인 당사자는 금융기관과 실질적 주채무자이므로, 제3자 명의로 되어 있는 대출약정은 그 금융기관의 양해하에 그에 따른 채무부담의 의사 없이 형식적으로 이루어진 것에 불과하여 (㉠)에 해당하는 무효의 법률행위이다. - 대법원 2001. 5. 29, 2001다11765 -
- 영리를 목적으로 율행위를 하도록 권유·유인·알선 또는 강요하거나 이에 협력하는 것은 (㉡)에 위반되므로 그러한 행위를 하는 자가 영업상 관계있는 율행위를 하는 자에 대하여 가지는 채권은 계약의 형식에 관계없이 무효라고 보아야 한다. 한편, (㉢)의 반환청구가 금지되는 사유로 민법 제746조가 규정하는 불법원인이라 함은 그 원인되는 행위가 ㉡에 위반하는 경우를 말하는 것인바, 율행위 및 그것을 유인·강요하는 행위는 ㉡에 위반되므로, 율행위를 할 자를 고용·모집하거나 그 직업을 소개·알선한 자가 율행위를 할 자를 고용·모집함에 있어 성매매의 유인·강요의 수단으로 이용되는 선불금 등 명목으로 제공한 금품이나 그 밖의 재산상 이익 등은 ... (중략) ... 그 반환을 청구할 수 없다고 할 것이다. - 대법원 2004. 9. 3, 2004다27488, 27495 -

- ㉠ :
- ㉡ :
- ㉢ :

수험번호 : (

)

성 명 : (

)

16. (가)는 기본권 제한의 일반 원칙과 한계를 규정한 헌법 조문이며, (나)는 관련 헌법재판소 판례이다. 밑줄 친 부분이 의미하는 기본권 제한의 일반 원칙이 무엇인지 적고, 이 원칙의 구체적인 내용을 2가지 쓰시오. [3점]

(가) 국민의 모든 자유와 권리는 국가안전보장·질서유지 또는 공공복리를 위하여 필요한 경우에 한하여 법률로써 제한할 수 있으며, 제한하는 경우에도 자유와 권리의 본질적인 내용을 침해할 수 없다(헌법 제37조 제2항).

(나) 피해자나 그 법정대리인이 '피해 및 가해자'를 안 때에는 불법행위로 인한 손해배상청구권의 소멸시효기간을 단기 3년으로 정한 민법 제766조 제1항이 불법행위로 인한 손해배상청구권이라는 피해자의 재산권을 합리적인 이유 없이 지나치게 제한함으로써 헌법 제37조 제2항의 기본권 제한에 관한 입법적 한계를 일탈하였다고 볼 수 없다.

- 헌재 2005. 5. 26, 2004헌바90 -

• 원칙 :

• 원칙의 구체적 내용 :

17. (가)와 (나)에 해당하는 행정강제의 방법을 쓰고, 둘의 차이점을 2줄 이내로 쓰시오. [4점]

(가) 무허가 불법 건축물을 일정 기한 내에 철거하지 않을 경우에는 행정청이 직접 혹은 제3자를 통해 대신 이행한다는 내용을 문서로 알리는 등의 절차를 밟는다. 그리고 이에 필요한 비용은 국세징수법의 예에 의하여 징수할 수 있다.

(나) 시도지사 또는 시장·군수·구청장은 당해 공무원으로 하여금 제1군 전염병 환자 등이 있다고 인정되는 거택, 선박 기타 장소에 들어가 필요한 조사, 진찰을 행하게 할 수 있으며 진찰의 결과 제1군 전염병 환자 등으로 인정될 때에는 이를 동행하여 치료 또는 격리시킬 수 있다. 이 경우에 당해 공무원은 그 권한을 증명하는 증표를 관계인에게 제시하여야 한다.

• (가) : • (나) :

• (가)와 (나)의 차이점 :

18. (가)의 희준과 (나)의 정일의 행위는 각각 어떤 범죄에 해당하는지 적고, 피해자가 처벌을 원치 않는다는 의사를 분명하게 밝힐 경우에 희준과 정일의 행위는 각각 공소제기 대상이 되는지 여부와 그 이유를 쓰시오. [3점]

(가) 콧수염을 기르는 영호는 이발관에 갔다. 영호는 이발사 희준에게 “보기 좋게 이발해 주세요.”라고 말하고는 이내 잠이 들었다. 콧수염까지 면도해 달라는 것으로 생각한 희준이는 영호의 콧수염까지 깨끗이 깎았다. 잠에서 깨어난 영호는 깜짝 놀랐다.

(나) 정일이는 병수 때문에 일이 잘못되었다고 생각하고는 병수를 식당으로 불러내었다. 정일이는 밤 10시경부터 그 다음 날 새벽 2시 반경까지 병수를 계속하여 겹주다가 손바닥으로 병수의 얼굴과 목덜미를 여러 차례 때렸다. 이에 병수는 극도의 공포감을 이기지 못하고 기절하였다가 정일이가 불러온 119 구급차 안에서야 겨우 정신을 차리고 인근 병원에 이송되었다.

• 범죄의 종류 : 희준, 정일

• 공소제기 대상 여부와 이유 : 희준

정일

수험번호 : () 성 명 : ()

19. 다음은 서로 다른 사회과학 연구방법론을 이용한 연구 내용이다. (가)에 사용된 사회과학 연구방법론의 장점을 (나)의 연구 방법과 비교하여 2가지 서술하고, (나)에서 활동이 타당하지 않은 연구 단계와 그 이유를 쓰시오. [4점]

(가) 부시맨 문화를 장기간 참여관찰하던 리처드(Richard)는 크리스마스가 되자 감사의 표시로 커다란 황소 한 마리를 사서 부시맨들에게 선물하였다. 은근히 선물에 대한 칭찬을 기대하였으나 리처드에게 돌아온 것은 소를 잘못 골랐다는 비난뿐이었다. 리처드는 부시맨들이 좀처럼 다른 사람을 칭찬하지 않는다는 것을 새삼스럽게 알게 되었다. 부시맨은 동료가 사냥에 성공하였을 경우에도 결코 칭찬하지 않았다. 오히려 형편없는 사냥을 하였다고 핀잔을 주었다. 이는 칭찬을 받는 사람은 교만하게 되고 한 사람의 교만은 마을의 평화를 해칠 것이라고 생각하기 때문이었다. 리처드는 부시맨들이 어떻게 평등한 사회관계를 유지할 수 있는지를 비로소 이해하게 되었다.

(나) 흡연자와 비흡연자의 건강 만족도 차이 연구

연구 단계	활 동
가설 설정	흡연자와 비흡연자 사이에는 자신의 건강 상태에 대한 인식의 차이가 있다.
개념의 정의	비흡연자는 최근 5년 이내 한 번도 흡연하지 않은 자, 흡연자는 그 외의 사람이라고 조작적으로 정의한다.
표본 추출	30세 이상 남성 중 현재 흡연하고 있는 자와 흡연하지 않는 자 각 500명을 무작위로 추출한다.
자료 수집 방법	5단계 중 어느 하나에 응답할 수 있는 구조화된 질문지를 구성하여 설문 조사한다.
자료 분석	통계 처리를 통해 집단 간 차이를 검증한다.

•(가)의 장점 : ① _____
② _____

•연구 단계 : _____

•이유 : _____

20. 다음에서 ㉠에 해당하는 사회학 용어를 쓰고 이것의 긍정적 측면과 부정적 측면을 하나씩 쓰시오. [3점]

베버(Weber)는 조직을 인간의 행동과 그들이 만들어내는 재화를 조정하는 방식이라고 하였다. 그는 사회 합리성을 극대화하고 목적 달성을 위한 가장 효율적인 방안으로 관료제를 제안하였다. 또한, 그는 관료제 내에서 개인 간 관계는 위계화된 권위체계에서 개인이 차지하는 위치와 성문화된 규정이나 규칙에 의해 결정된다고 인식하였다. 그러나 조직 내에서는 종종 규정에 위배되는 행위가 일어나기도 하고 위계가 무시되는 사회 관계가 형성되기도 한다. 조직 구성원의 반복적인 상호작용은 공식적인 서열체계와 무관하게 새로운 사회 관계를 형성하며, 이러한 사회 관계는 (㉠) (으)로 발전한다. 이렇게 형성된 사회집단이 합리성과 효율성을 증대시키는가 아니면 저해하는가를 판단하는 것은 쉬운 일이 아니다.

•용어 : _____

•긍정적 측면 : _____

•부정적 측면 : _____

수험번호 : () 성 명 : ()

21. (가)의 주장에 기초하여 (나)와 같은 탐구활동을 하고자 한다. (가)에 가장 부합하는 사회학 이론(또는 접근 방법)의 명칭을 쓰고, (가)의 사회학 이론을 적용하여 (나)에서 수행할 수 있는 탐구활동의 예를 2줄 이내로 쓰시오. [3점]

(가) 개인들이 사회에 종속적으로만 존재하는 것은 아니다. 오히려 개인은 사회질서를 주체적으로 구성하고 있다. 개인은 사회 질서를 당연한 것으로 받아들이고 있기는 하지만 그것은 인간이 사회에 대해 수동적이고 무비판적으로 존재하기 때문이 아니라 개인들이 그러한 질서를 주체적으로 구성하고 있기 때문이다. 따라서 개인들이 사회적 상호작용의 기초가 되는 규범과 가치를 어떻게 해석하는가를 밝혀내는 것이 중요하다. 이를 위하여 사람들이 일상 생활에서 현실 상황을 지각하고 행동하는 방식을 관찰하고 분석하여야 한다.

(나) 탐구 주제 : 교실 내에서 작용하는 규범과 규칙은 어떤 것이 있는지 알아보자.

탐구 방법 : 가펑켈(Garfinkel)이 제안한 '위반 실험' 방법 활용

• 명칭 :

• 활동 :

22. 다음 사례를 공통적으로 설명할 수 있는 문화인류학 용어를 쓰고, 그 용어를 2줄 이내로 설명하시오. [4점]

○ 1870년대 이후 뉴기니의 원주민들은 백인들의 물질적 풍요를 부러워하면서 자신들도 조상에게 요청하면 백인들처럼 물질적 풍요를 누릴 수 있을 것이란 믿음을 가졌다. 이들은 대나무로 활주로와 부두를 만든 뒤 조상들이 엄청난 물질적 선물을 줄 것이라고 기대하면서 주술적 의례를 행하였다. 이 과정에서 새로운 윤리나 행위규범이 제시되었으며, 이는 원주민들의 자긍심을 제고하고 주민들의 통합성을 높이는 효과가 있었다.

○ 19세기 후반 이후 백인들에게 자신들의 땅을 빼앗긴 아메리카 인디언들의 삶은 매우 열악해졌다. 백인들에게 삶이 지배당하고 들소가 급감하였으며 때마침 홍역이 유행하여 인구도 급감하였다. 이때 죽은 조상들의 영혼을 환상 중에 만난 예언자들이 나타나, 가죽 옷을 입고 춤을 추기만 하면 곧 백인들이 멸망할 것이며 죽은 자들이 살아나고 들소 때가 다시 많아질 것이라고 예언하였다. 대평원 인디언들 사이에는 이 예언에 따라 유행춤이 급속히 번져나갔다.

• 용어 :

• 설명 :

- 수고하셨습니다 -